



1

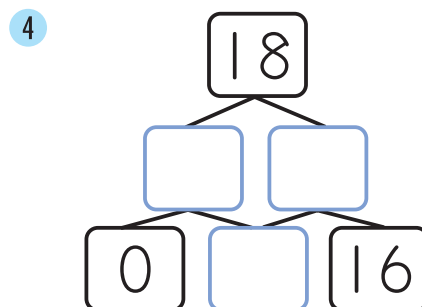
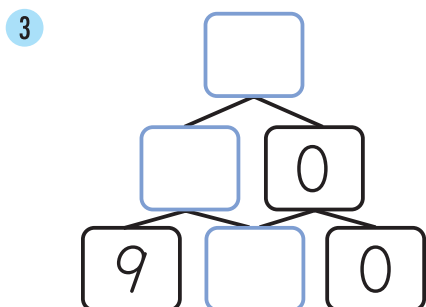
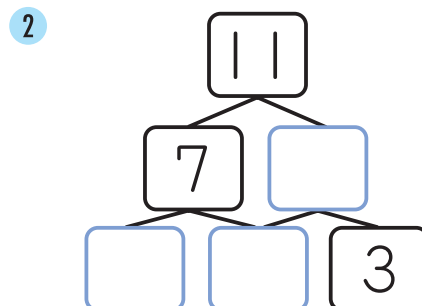
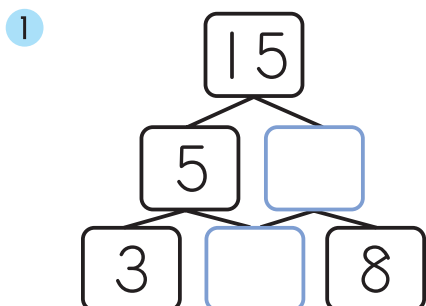
□に あてはまる 数を かきましよう。(□1つ5点)

やり方

2+5=7なので、
①に 7を
かきます。

6は 5と 1
なので、②に
1を かきます。

7+6=13なので、
③に 13を
かきます。



つぎのプリントにつづく →

Z会 × ちびむすドリル

考える楽しさを
体験しよう!



くわしくは
こちら!

Z会の本



かっこいい小学生になろう



2

1から9までのカードが1まいずつあります。このカードをならべて筆算を作ります。□にあてはまる数をかきましょう。(1つ15点)



1つの筆算の中で同じカードを2回つかうことはできないよ。



1

$$\begin{array}{r}
 \begin{array}{|c|} \hline 1 \\ \hline \end{array} \begin{array}{|c|} \hline \square \\ \hline \end{array} \\
 + \begin{array}{|c|} \hline 3 \\ \hline \end{array} \begin{array}{|c|} \hline \square \\ \hline \end{array} \\
 \hline
 \begin{array}{|c|} \hline 5 \\ \hline \end{array} \begin{array}{|c|} \hline 7 \\ \hline \end{array}
 \end{array}$$

いろいろな筆算がかんがえられるよ。

2

$$\begin{array}{r}
 \begin{array}{|c|} \hline \square \\ \hline \end{array} \begin{array}{|c|} \hline \square \\ \hline \end{array} \\
 - \begin{array}{|c|} \hline \square \\ \hline \end{array} \begin{array}{|c|} \hline \square \\ \hline \end{array} \\
 \hline
 \begin{array}{|c|} \hline 7 \\ \hline \end{array} \begin{array}{|c|} \hline 6 \\ \hline \end{array}
 \end{array}$$



3

$$\begin{array}{r}
 \begin{array}{|c|} \hline \square \\ \hline \end{array} \begin{array}{|c|} \hline \square \\ \hline \end{array} \\
 + \begin{array}{|c|} \hline \square \\ \hline \end{array} \begin{array}{|c|} \hline \square \\ \hline \end{array} \\
 \hline
 \begin{array}{|c|} \hline 1 \\ \hline \end{array} \begin{array}{|c|} \hline 3 \\ \hline \end{array} \begin{array}{|c|} \hline 2 \\ \hline \end{array}
 \end{array}$$

Z会 × ちびむすドリル

考える楽しさを体験しよう!



くわしくはこちら!

Z会の本



かっこいい小学生になろう