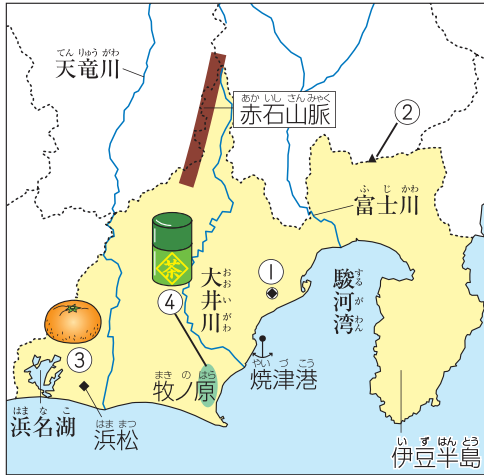


1 次の①～④にあてはまる語句を書きなさい。



都道府県名の筆順

静 一 十 三 青 青 青 静 静 静 静  
 岡 | 冂 冂 冂 冂 冂 冂 冂 冂  
 県 | 冂 冂 冂 冂 冂 冂 冂 冂


静岡県けんちようしよぎいちの県庁所在地  
 ... ( ① ) 市

都道府県の名前

静岡県のポイント

- 山梨県との県境に、日本でいちばん高い山である ( ② ) がある。
- 太平洋側の温暖な気候を生かした ( ③ ) の栽培がさかん。
- 牧ノ原などでつくられる ( ④ ) の生産量は、日本一。

2 焼津港を基地とする遠洋漁業で多く水あげされる魚を、次のア～ウの中から1つ選び、記号を書きなさい。



3 静岡県を流れる、次のア～ウの川を、河口 (川が海に注いでいる場所) が、東京都から近い順に、記号で並べて書きなさい。

ア 天竜川      イ 富士川      ウ 大井川  
 (      →      →      )

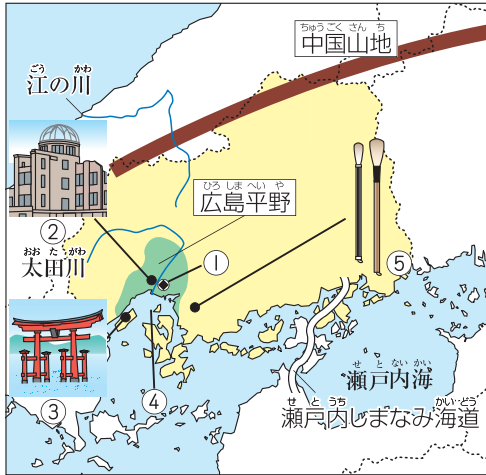
つぎのプリントにつづく →

Z会 × ちびむすドリル  
 考える楽しさを体験しよう!



カッコいい小学生になろう

1 つぎ 次の①～⑤にあてはまる語句を書きなさい。



都道府県名の筆順

広 ' ヾ 广 広 広

島 ' イ 戸 戸 戸 島 島 島 島

県 | 冂 冂 冂 目 目 目 卑 卑 県 県

けんちょうしよざいち  
広島県の県庁所在地

... ( ① ) 市

広島県のポイント

- 原子爆弾で破壊された状態のまま保存されている ( ② )  
と、日本三景の一つである宮島にある ( ③ ) は、世界遺産になっている。
- ( ④ ) で貝を育てる養殖業がさかん。
- 伝統的工艺品の ( ⑤ ) は、書道や化粧などで使われている。

都道府県のよじす

2 養殖業でつくられるもので、広島県の生産量が全国で1位であるものを、次のア～ウの中から1つ選び、記号を書きなさい。

ア



のり

イ



かき

ウ



わかめ

( )

3 本州四国連絡橋の一つで、広島県と愛媛県を結んでいる橋をまとめて何といいますか。

( )

Z会 × ちびむすドリル

考える楽しさを体験しよう!



くわしくはこちら!

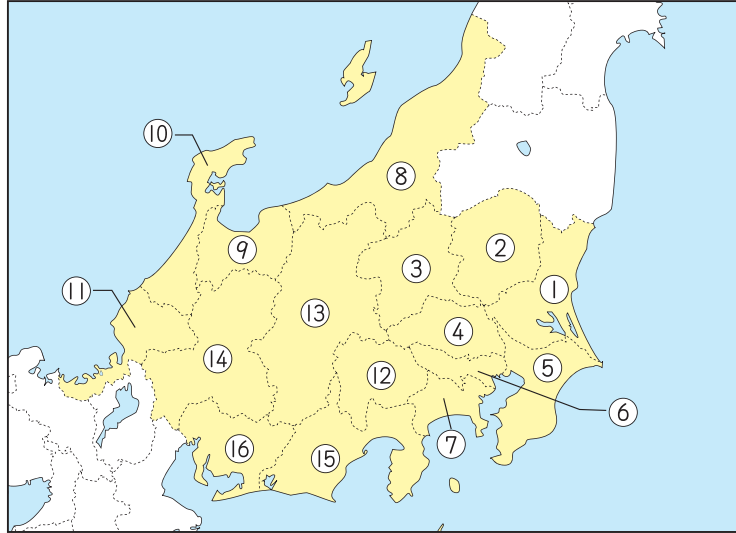
Z会の本



カッコいい小学生になろう



1 関東地方・中部地方の①～⑬の都道府県名を、<sup>とどうふけんめい</sup>漢字でそれぞれ書きなさい。



関東地方

① ( ) ② ( ) ③ ( )

④ ( ) ⑤ ( ) ⑥ ( )

⑦ ( )

中部地方

⑧ ( ) ⑨ ( ) ⑩ ( )

⑪ ( ) ⑫ ( ) ⑬ ( )

⑭ ( ) ⑮ ( ) ⑯ ( )

グレードアップ問題



● 関東地方と山梨県、<sup>やまなしけん</sup>長野県、<sup>にいがたけん</sup>新潟県の3県を合わせて「関東甲信越地方」ともいうよ。これは3県の旧国名である甲斐、<sup>かゐ</sup>信濃、<sup>しなの</sup>越後の頭文字を合わせたよび名なんだ。この3県は、<sup>えちご</sup>関東地方とのつながりが深いんだよ。

つぎのプリントにつづく →

Z会 × ちびむすドリル

考える楽しさを体験しよう!



Z会の本



かつこいい小学生になろう



1 地図中の①～⑧の内陸にある都道府県の名前を、それぞれ書きなさい。



- ① ( )
- ② ( )
- ③ ( )
- ④ ( )
- ⑤ ( )
- ⑥ ( )
- ⑦ ( )
- ⑧ ( )



2 内陸にある都道府県のうち、都道府県名と都道府県庁所在地名がちがう都道府県の番号と、その都道府県庁所在地名を書きなさい。なお、ひらがなが使われている都道府県庁所在地名は、都道府県名とちがうものとしませう。

- |        |               |
|--------|---------------|
| 番号 ( ) | 都道府県庁所在地名 ( ) |
| 番号 ( ) | 都道府県庁所在地名 ( ) |
| 番号 ( ) | 都道府県庁所在地名 ( ) |
| 番号 ( ) | 都道府県庁所在地名 ( ) |
| 番号 ( ) | 都道府県庁所在地名 ( ) |

グレードアップ問題

知って  
いたら **かっこいい!**

●内陸にある都道府県は、たくさんの都道府県にせっしているよ。他のどの都道府県とせっしているか言えたらかっこいいね。



Z会 × ちびむすドリル

考える楽しさを体験しよう!



くわしくは  
こちら!

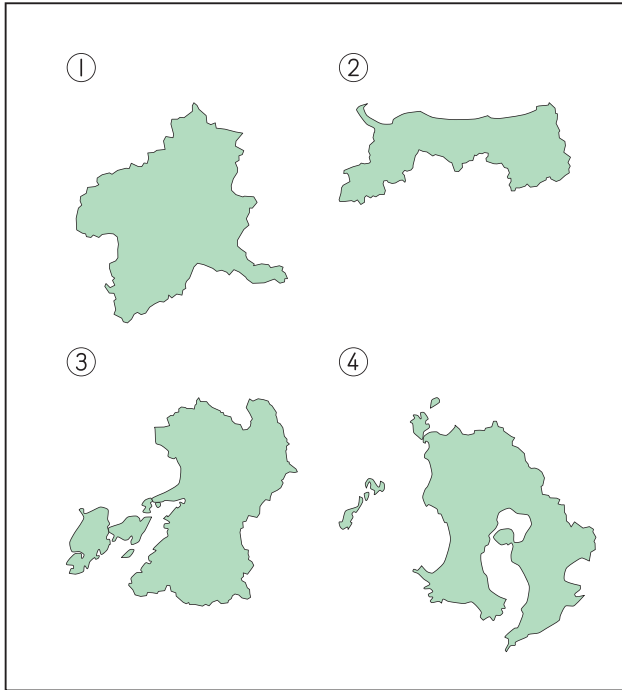
Z会の本



かっこいい小学生になろう



1 つぎの①～④の都道府県は、都道府県名に動物を表す漢字がふくまれます。都道府県名をそれぞれ書きなさい。



- ① ( )
- ② ( )
- ③ ( )
- ④ ( )

2 1の①～④の都道府県のうち、日本海に面している都道府県名を書きなさい。  
( )

3 1の①～④の都道府県のうち、東シナ海に面している都道府県名を、2つ書きなさい。  
( )・( )

グレードアップ問題

知っていたら **かっこいい!**

● 「島」, 「川」, 「山」が都道府県名にふくまれる都道府県もすべて言えるとかっこいいね。この中で最も多くの都道府県に使われている漢字はどれかな?

つぎのプリントにつづく →

Z会 × ちびむすドリル

考える楽しさを体験しよう!



くわしくはこちら!

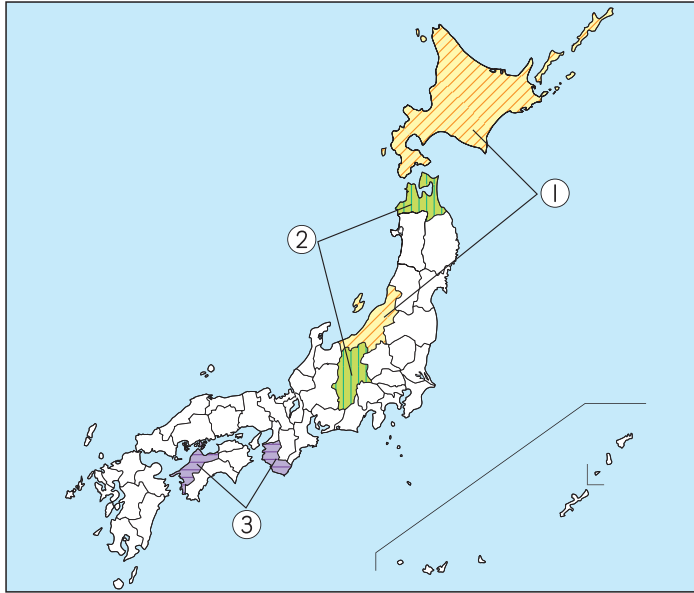
Z会の本



かっこいい小学生になろう



1 地図中の①～③の都道府県でさかに<sup>せいさん</sup>生産されている農産物を、次のア～オの中からそれぞれ1つ選び、記号を書きなさい。



ア みかん      イ もも      ウ りんご      エ 米      オ バナナ

① (            )      ② (            )      ③ (            )

2 さくらんぼ、さつまいも、小麦の生産量が日本で最も多い都道府県を、次のア～オの中からそれぞれ1つ選び、記号を書きなさい。

ア 北海道      イ 青森県      ウ 山形県      エ 静岡県  
オ 鹿児島県

① さくらんぼ (            )      ② さつまいも (            )      ③ 小麦 (            )



●くだものがうまく育つかは気候に大きく左右されるね。りんごやさくらんぼはすずしい地域で、みかんはあたたかい地域で主に栽培されるよ。

グレードアップ問題

Z会 × ちびむすドリル

考える楽しさを体験しよう!



くわしくはこちら!

Z会の本



かっこいい小学生になろう