

名前

第

|

回

積み木の数

図形

学習日

月 日

得点

/ 100点

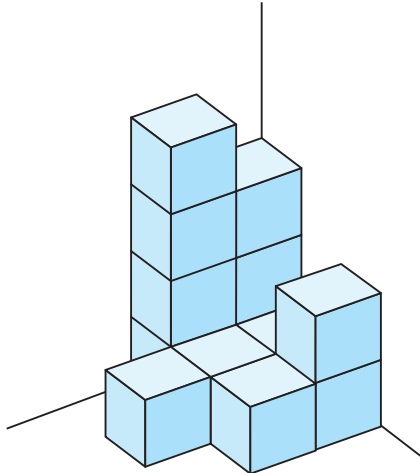


1

かべにそって、積み木をつみました。使った積み木の数を答えなさい。

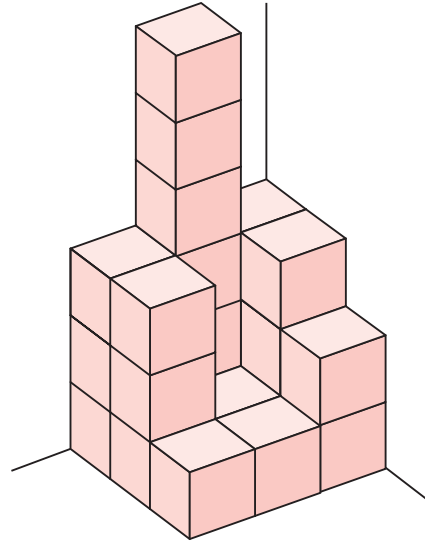
(1つ20点)

①



()

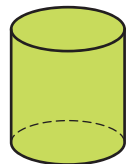
②



()

知って いたら かわいい! とう てい えい 図

箱などの形を立体というよ。立体を真正面から見た図と、真上から見た図を組み合わせた図を、立体の投えい図というよ。



真正面から見た図



真上から見た図



つぎのプリントにつづく →

Z会 × ちびむすドリル

考える楽しさを体験しよう!



くわしくは
こちら! /

Z会の本



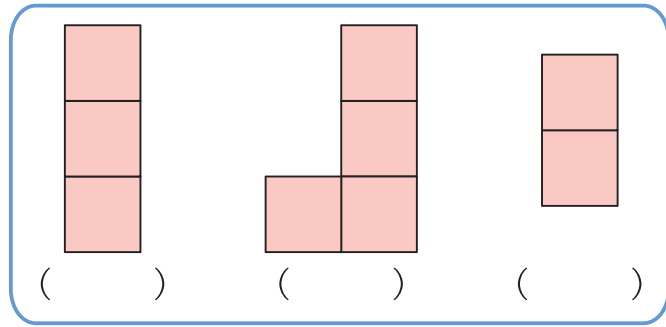
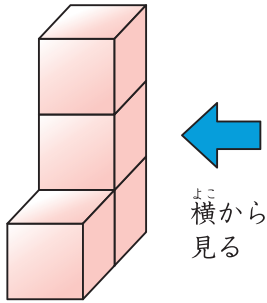
かわいい小学生になろう



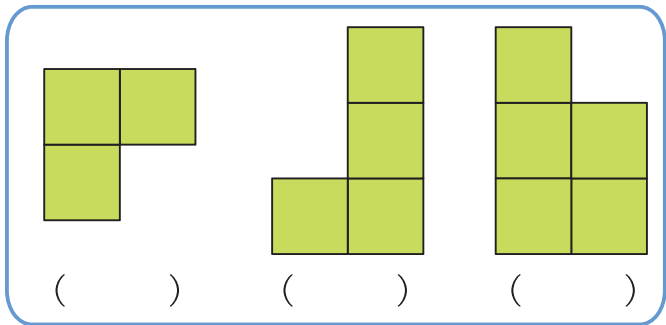
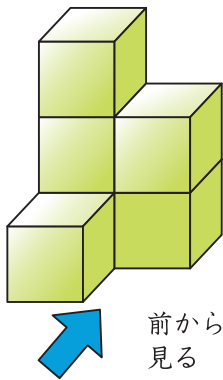
2 つみ木をつんで、いろいろな形を作りました。→^{ほうこう}の方向から見ると、どのような形に見えますか。あてはまる () に○をかきなさい。

(1つ20点)

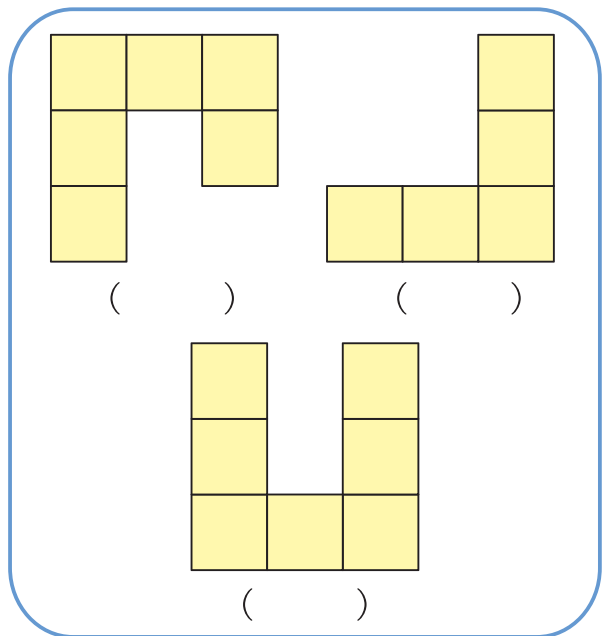
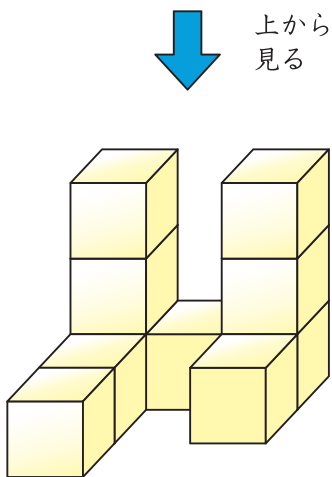
①



②



③



Z会 × ちびむすドリル

考える楽しさを体験しよう!



くわしくはこちら!

Z会の本 🔍



かわいい小学生になろう