

第 3 回 国旗のもよう

学習日

月 日

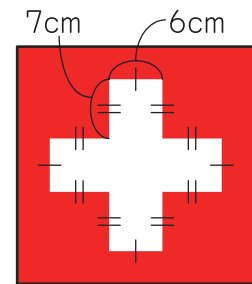

得点

/ 100点

1 4年4組のえりさんは、夏の自由研究で世界の国旗を調べています。国旗のもようには、その国の願いやとくちょうが表されているそうです。えりさんは、日本の国旗と同じ赤と白のスイスの国旗に興味をもち、右の図のようにかきました。

そして、右の図の十字の部分の面積を3通りの方法で求めました。えりさんの説明を読んで、面積を求めましょう。

(それぞれの式 10点・答え 10点)



1 方法1

十字を正方形と4つの長方形に分けます。

式

答え ()

2 方法2

十字を1つの長方形に変えます。

式

答え ()

つぎのプリントにつづく →

Z会 × ちびむすドリル

考える楽しさを体験しよう!



かわいい小学生になろう



くわしくはこちら! /

Z会の本 🔍



3 方法3

十字を、大きい正方形から小さい正方形4つをのぞいた形とみます。

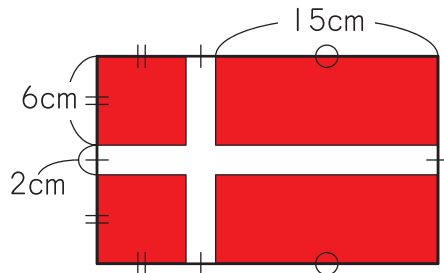
式

答え ()



面積の求め方は、
①分ける ②動かす ③のぞく
の3つを覚えておこう。いろいろ
な方法で、面積を求めることが
できるとかっこいいよ。

2 デンマークの国旗も赤と白の2色です。右の図で、赤く色をついた部分の面積を、2通りの方法で求めましょう。
(それぞれの式10点・答え10点)



1 方法1

式

答え ()

2 方法2

式

答え ()

Z会 × ちびむすドリル

考える楽しさを体験しよう!



かっこいい小学生になろう