

図形

円の面積 ①

学習日

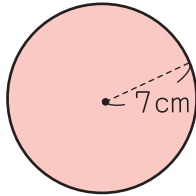
月 日

得点

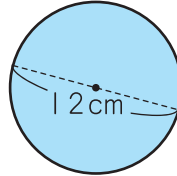
100点

1 次の円の面積は何 cm^2 ですか。ただし、円周率は 3.14 とします。(各 10 点)

1



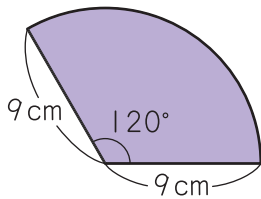
2



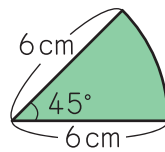
() ()

2 次の図形の面積は何 cm^2 ですか。ただし、円周率は 3.14 とします。(各 10 点)

1



2



() ()

つぎのプリントにつづく →

Z会 × ちびむすドリル

考える楽しさを体験しよう!



くわしくはこちら!

Z会の本 🔍



かっこいい小学生になろう

