

3

図形

角柱と円柱の体積

学習日

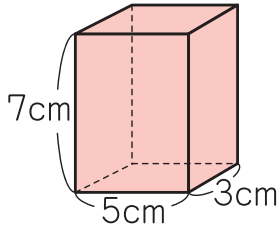
月 日

得点

/ 100点

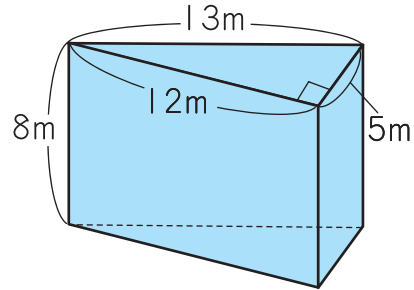
1 次の角柱の体積を求めなさい。(各10点)

1 四角柱

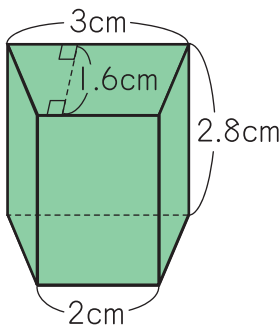


() ()

2 三角柱

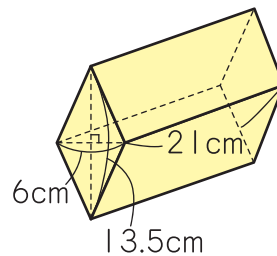


3 四角柱



() ()

4 四角柱



つぎのプリントにつづく →

Z会 × ちびむすドリル

考える楽しさを体験しよう!



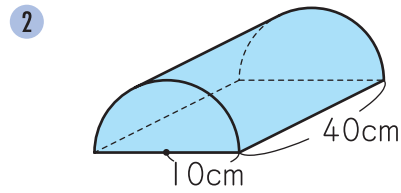
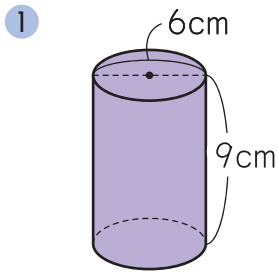
くわしくはこちら!

Z会の本



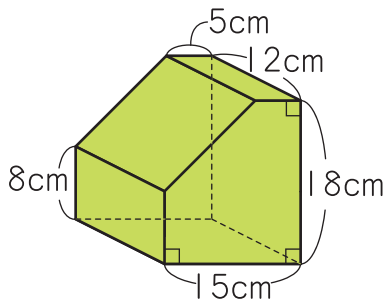
かっこいい小学生になろう

2 次の立体の体積は何 cm^3 ですか。ただし、円周率は 3.14 とします。(各 20 点)



() ()

3 次の角柱の体積は何 cm^3 ですか。(20 点)



()

Z会 × ちびむすドリル

考える楽しさを体験しよう!



かわいい小学生になろう