

# こたえ

## 1 とくちょう<sup>かんが</sup>を考えよう

### こたえ

- ① きつつき, トマト
- ② トマト, しめじ
- ③ かさ, きつつき, キリン

かさの<sup>ぜんたい</sup>全体をささえている  
ぶ<sup>ぶ</sup>ん部分を「ほね」というよ。

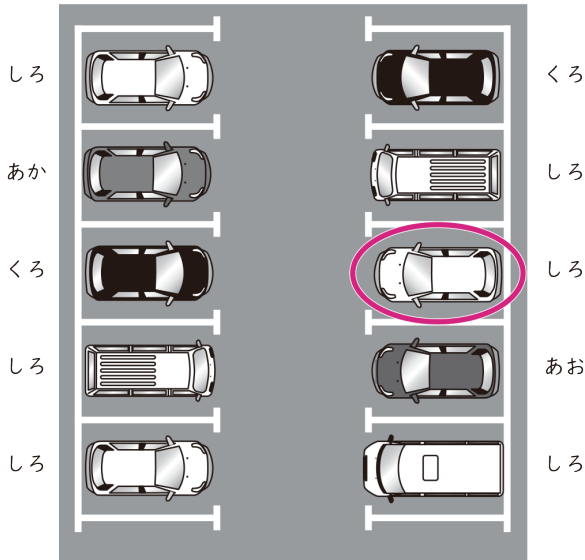


### 《ワンポイント》

どの順番で書いてもかまいません。

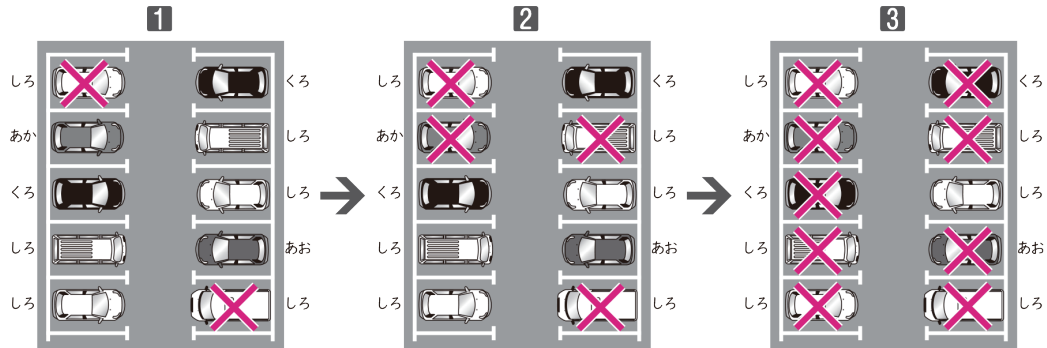
## 2 くるま<sup>み</sup>を見つけよう

### こたえ



### せつめい

1, 2, 3にあてはまらないものに×をつけていくと、次のようになります。




Z会 × ちびむすドリル

考える楽しさを体験しよう!

教科の枠を超えた  
思考力を養います



Z会の本



くわしくは  
こちら!



# こたえ

## 3 だれの話か考えよう

### こたえ

- ㊸ つばささん    ㊹ はじめさん    ㊺ みなとさん    ㊻ いさおさん

### せつめい

みなとさんに負けたのはいさおさんだけなので、㊻はいさおさんです。  
 つばささんに負けたのは、みなとさんといさおさんです。いさおさんは㊻に入っている  
 ので、㊺はみなとさんです。  
 はじめさんは1番だったので、㊸はつばささんです。







## 4 何をせつめいしているか考えよう

### こたえ

- ① たこ    ② さいころ    ③ 

### せつめい

- ① 海にいる、あしが8本の生き物で、「たこ」という名前の生き物がいます。また、  
 空にうかべて遊ぶものにも「たこ」があります。  
 ② かたつむり、さいころ、たたみ、台風は、目があります。このうち、生き物では  
 なくて、転がして使うものは、さいころです。  
 ③ それぞれにあてはまるなら○、あてはまらないなら×をつけると、次のようにな  
 ります。

						
あなたはあいていない	○	×	○	×	○	○
数字の「0」が書か れている	×	×	○	○	○	○
10まいで、べつ のこうかと同じねだ んになる	○	○	○	○	×	×

ぜんぶ○になるのは、10円玉だけです。

### 《ワンポイント》

- ②さいころには、1から6までの目があります。  
 「畳の目」は、畳の編み目部分のことです。  
 「台風の目」は、台風の中心部にできる雲のない部分のことです。  
 ③1円玉、5円玉は製造年も漢数字で表示されているので、たとえば「平成10年」は「平成十年」と書かれます。そのため、数字の「0」が書かれることはありません。

Z会 × ちびむすドリル

考える楽しさを体験しよう!

教科の枠を超えた  
思考力を  
養います



# こたえ

## 5 麦茶ではないものを見つけよう

### こたえ

エ

### せつめい

めんつゆのびんは1本しかないので、めんつゆだけについているマークが2本のびんについていることはありません。だから、1回だけ出てくるマークをさがします。▲は1回しか出てこないで、エがめんつゆとわかります。

## 6 使った乗り物を当てよう

### こたえ

さくら町からたけだ町まで 電車  
たけだ町からはすみ町まで バス  
はすみ町からもみじ町まで 地下鉄

### せつめい

ちょうど60分で行ける行き方は、

- ① さくら町からたけだ町まで 電車  
たけだ町からはすみ町まで バス  
はすみ町からもみじ町まで 地下鉄
- ② さくら町からたけだ町まで バス  
たけだ町からはすみ町まで 電車  
はすみ町からもみじ町まで 電車

のどちらかです。

①のときにかかるねだんは、 $300 + 400 + 300 = 1000$  (円)、②のときにかかるねだんは、 $200 + 500 + 400 = 1100$  (円)なので、①の行き方だとわかります。

### 《ワンポイント》

値段が1000円になる行き方から考えて、  
電車→電車→バス (65分)  
電車→バス→地下鉄 (60分)  
バス→電車→地下鉄 (65分)  
バス→バス→電車 (65分)  
の4通りを調べる方法もあります。


Z会 × ちびむすドリル

考える楽しさを体験しよう!

教科の枠を超えた  
思考力を  
養います



Z会の本



くわしくは  
こちら!

