

# 4

# てんびん

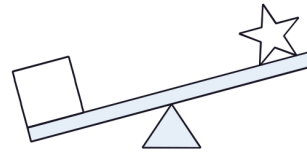
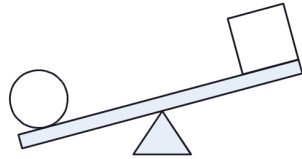
目標時間は3分

分 秒

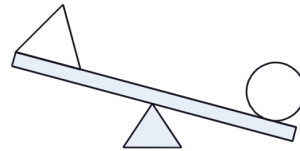
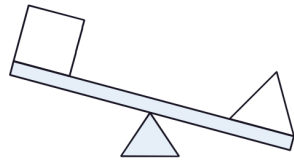
**Q** ○, △, □, ☆の中でいちばん<sup>かる</sup>軽いのはどれですか。  
つぎのように<sup>すうじ</sup>数字で<sup>こた</sup>答えなさい。

○…1    △…2    □…3    ☆…4

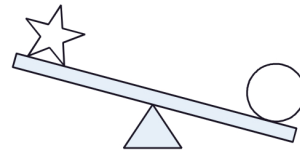
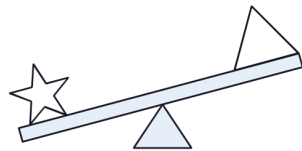
(1)




(2)




(3)




(4)

