

1

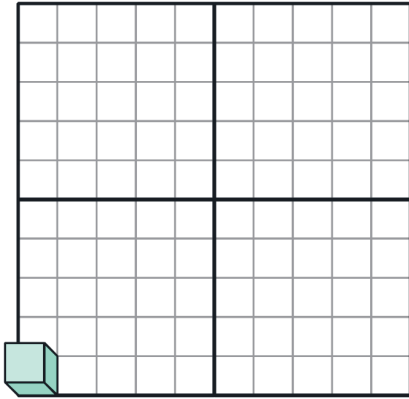
すうりょう にんしき
数量の認識

じっくりとりくみ
ましょう
分 秒

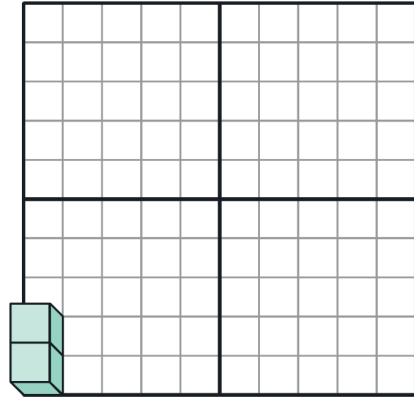
1～10のとらえ方

Q つぎ かず 次の数はいくつですか。すうじ こた 数字を答えましょう。

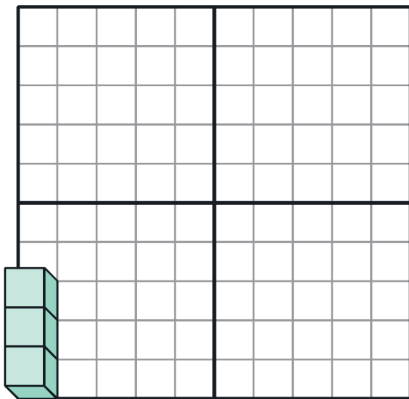
(1)



(2)



(3)



(4)

