

2

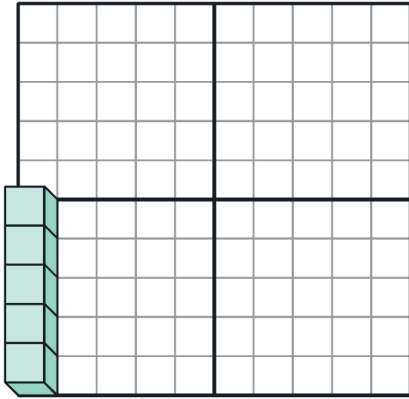
すうりょう にんしき
数量の認識

1～10のとらえ方 かた

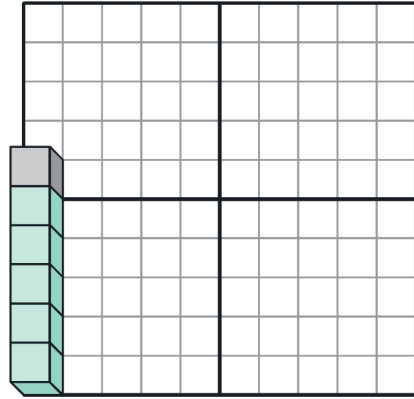
じっくりとりくみ
ましょう
分 秒

Q つぎ かず 次の数はいくつですか。 すうじ こた 数字を答えましょう。

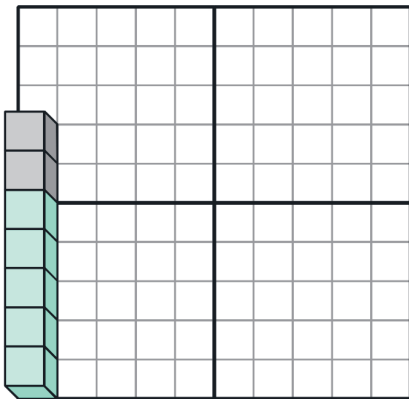
(1)



(2)



(3)



(4)

