

# 4

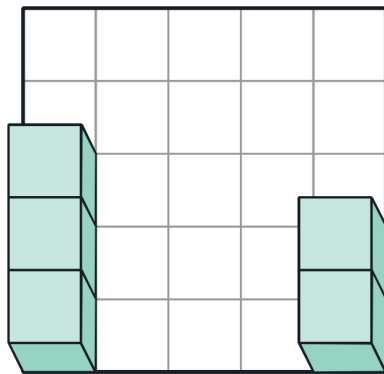
## かず ごうせい ぶんかい 数の合成・分解

じっくりとりくみ  
ましょう

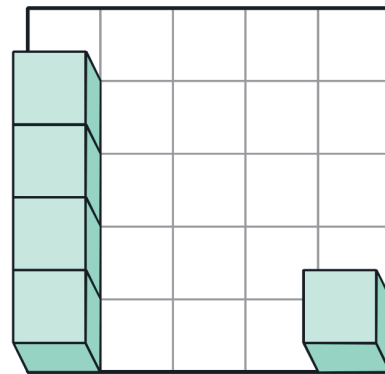
分 秒

**Q** つぎの2つの数を合わせるといくつになりますか。  
ブロックを頭の中でイメージしながら、分解したり移動させたり合成したり（くっつけたり）して考えましょう。

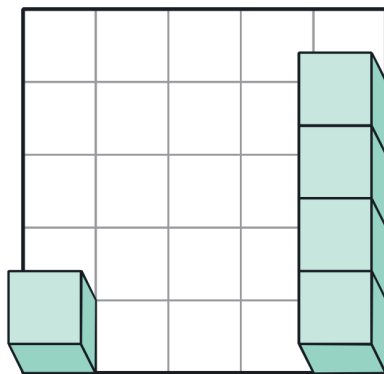
(1) 2つをたしたら  個



(2) 2つをたしたら  個



(3) 2つをたしたら  個



(4) 2つをたしたら  個

