

6

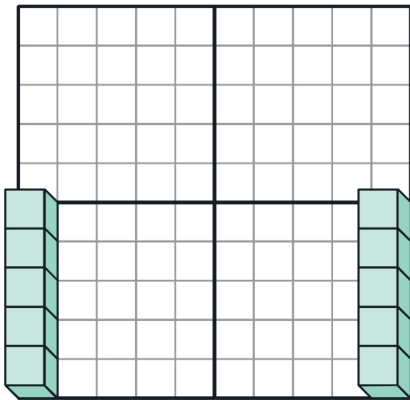
かず ごうせい ぶんかい 数の合成・分解

じっくりとりくみ
ましょう

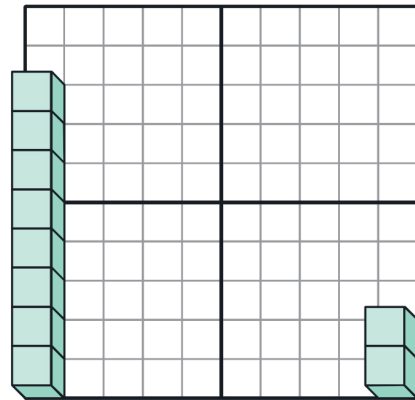
分 秒

Q つぎの2つの数を合わせるといくつになりますか。
ブロックを頭の中でイメージしながら、分解したり移動させたり合成したり（くっつけたり）して考えましょう。

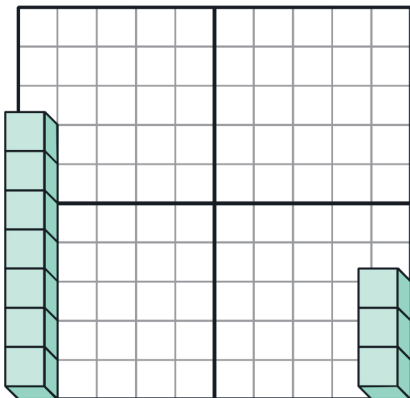
(1) 2つをたしたら 個



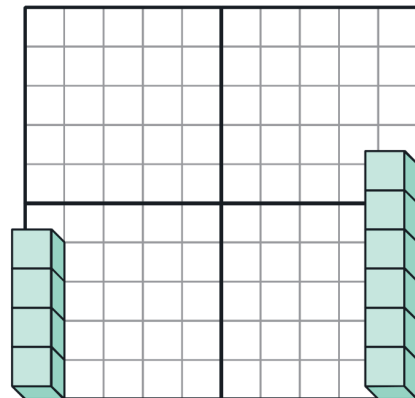
(2) 2つをたしたら 個



(3) 2つをたしたら 個



(4) 2つをたしたら 個



考える力を伸ばす **天才脳ドリル** パズル道場の秘伝公開!

天才脳ドリル 天才脳ドリル

賢い子には知識で測れないセンスがある!

天才脳ドリル

公式サイトはこちら

塾ソムリエ 西村先生がおくる!

『うちの子だけ』の問題集の選び方ガイド