

1

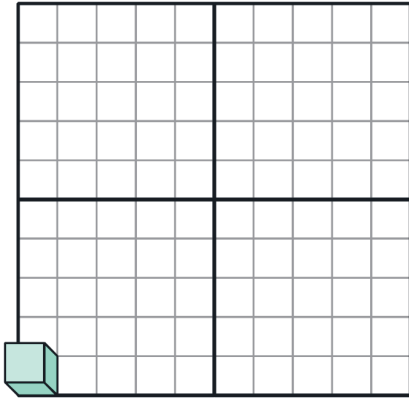
すうりょう にんしき
数量の認識

じっくりとりくみ
ましょう
分 秒

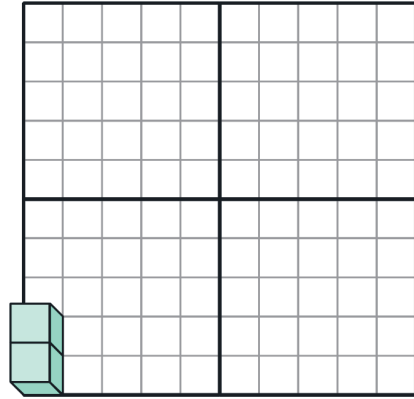
1～10のとらえ方

Q つぎ かず 次の数はいくつですか。すうじ こた 数字を答えましょう。

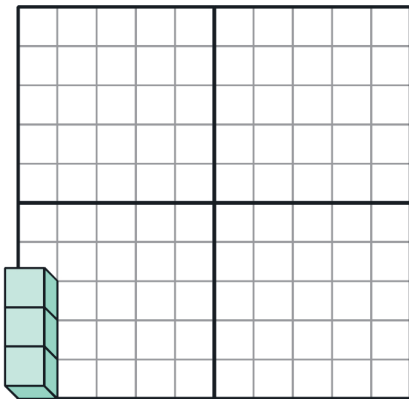
(1)



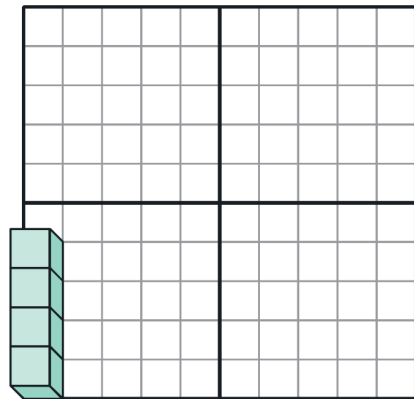
(2)



(3)



(4)



2

すうりょう にんしき
数量の認識

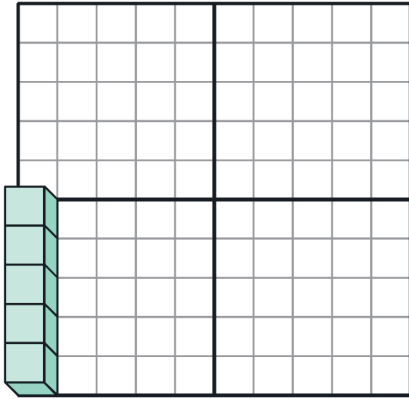
1～10のとらえ方

じっくりとりくみ
ましょう

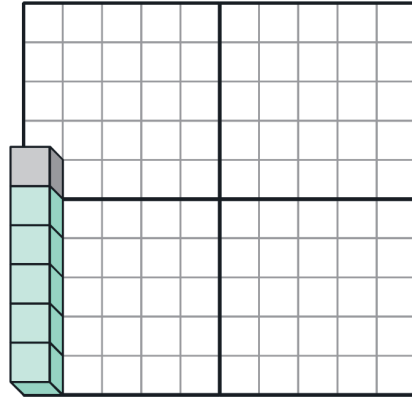
分 秒

Q つぎ かず 次の数はいくつですか。すうじ こた 数字を答えましょう。

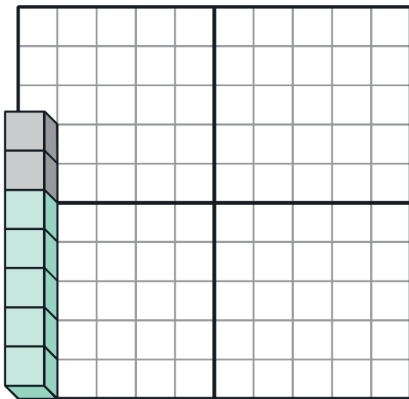
(1)



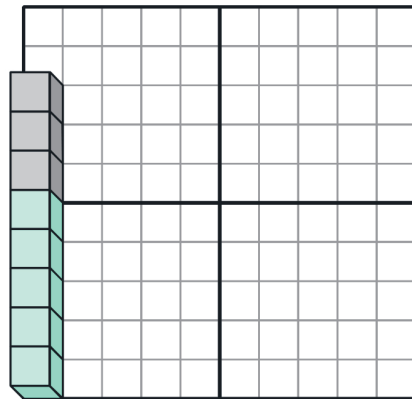
(2)



(3)



(4)



3

すうりょう にんしき
数量の認識

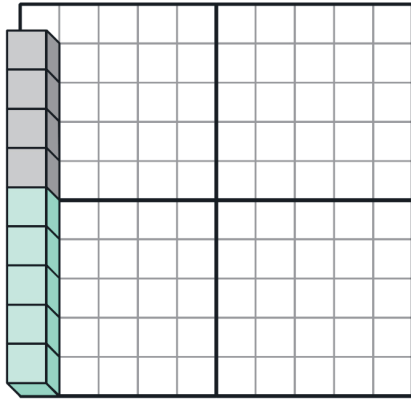
1～10のとらえ方 かた

じっくりとりくみ
ましょう

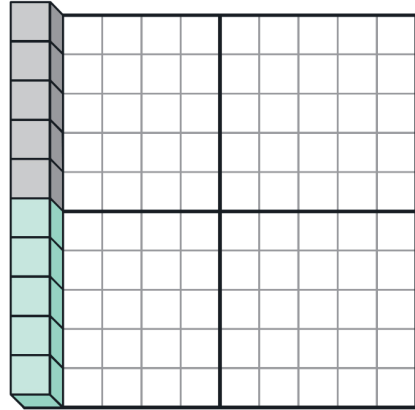
分 秒

Q つぎ かず 次の数はいくつですか。すうじ こた 数字を答えましょう。

(1)

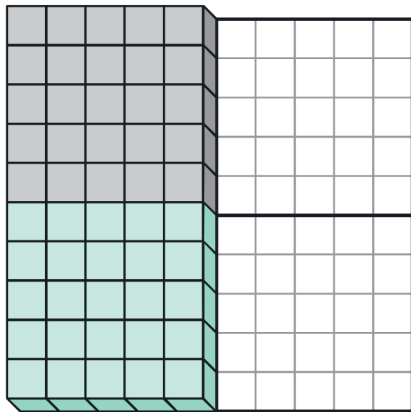


(2)

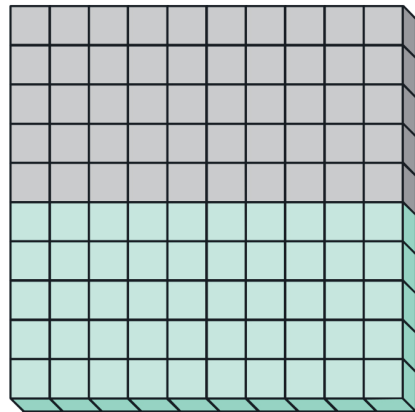


→ステップアップ→

(3)



(4)



4

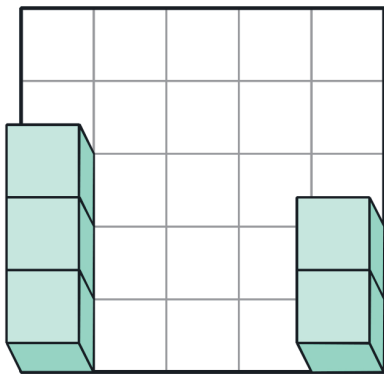
かず ごうせい ぶんかい 数の合成・分解

じっくりとりくみ
ましょう

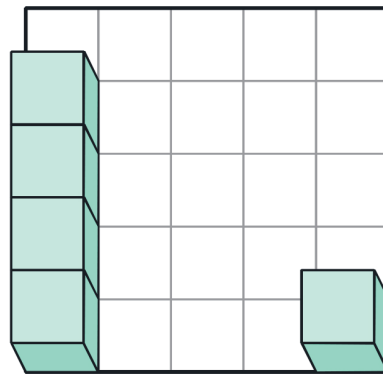
分 秒

Q つぎの2つの数を合わせるといくつになりますか。
ブロックを頭の中でイメージしながら、分解したり移動させたり合成したり（くっつけたり）して考えましょう。

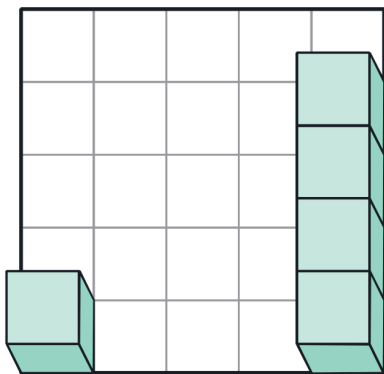
(1) 2つをたしたら 個



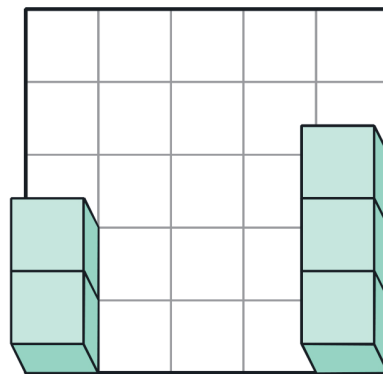
(2) 2つをたしたら 個



(3) 2つをたしたら 個



(4) 2つをたしたら 個



考える力を伸ばす **パズル道場**の秘伝公開!

天才脳ドリル

賢い子には知識で測れないセンスがある!

天才脳ドリル

公式サイトはこちら

塾ソムリエ 西村先生がおくる!

『うちの子だけ』の問題集の選び方ガイド

5

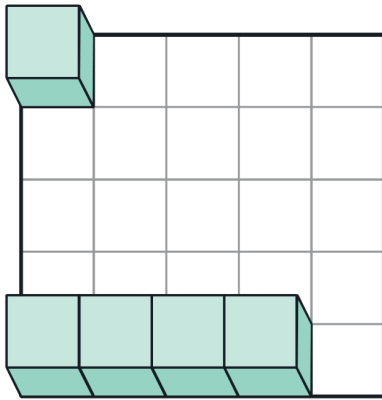
かず ごうせい ぶんかい 数の合成・分解

じっくりとりくみ
ましょう

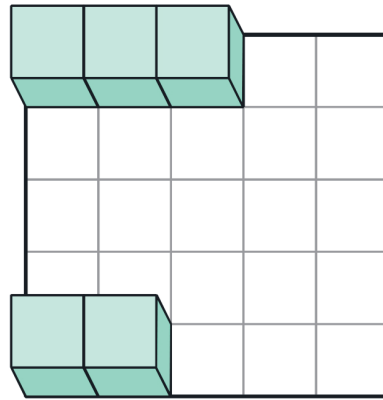
分 秒

Q つぎの2つの数を合わせるといくつになりますか。
ブロックを頭の中でイメージしながら、分解したり移動させたり合成したり（くっつけたり）して考えましょう。

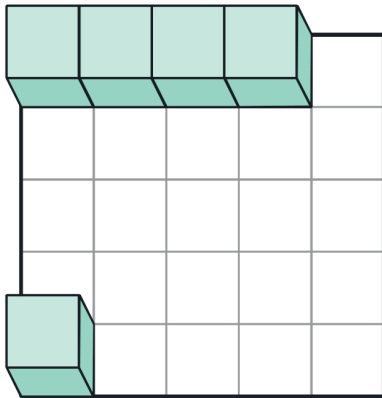
(1) 2つをたしたら 個



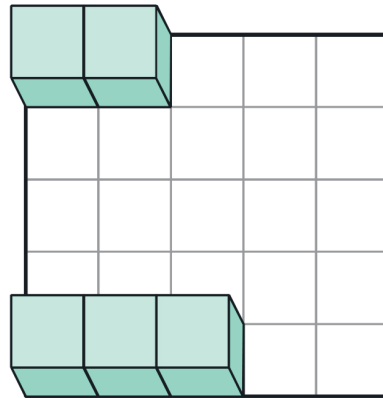
(2) 2つをたしたら 個



(3) 2つをたしたら 個



(4) 2つをたしたら 個



6

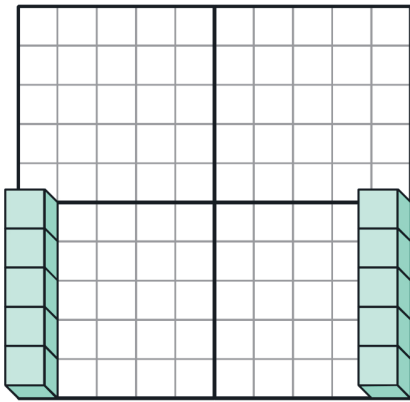
かず ごうせい ぶんかい 数の合成・分解

じっくりとりくみ
ましょう

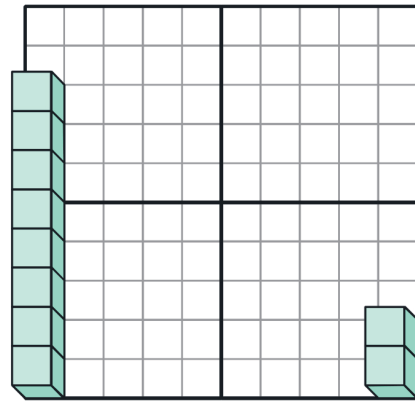
分 秒

Q つぎの2つの数を合わせるといくつになりますか。
ブロックを頭の中でイメージしながら、分解したり移動させたり合成したり（くっつけたり）して考えましょう。

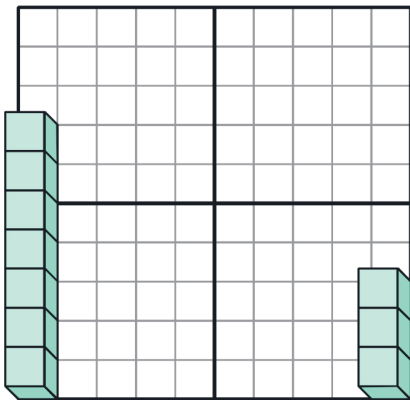
(1) 2つをたしたら 個



(2) 2つをたしたら 個



(3) 2つをたしたら 個



(4) 2つをたしたら 個

