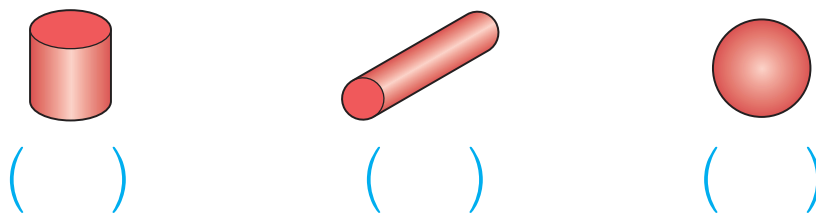
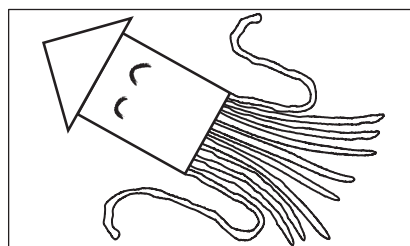


3 ちがう なかまの かたちに ○を つけましょう。

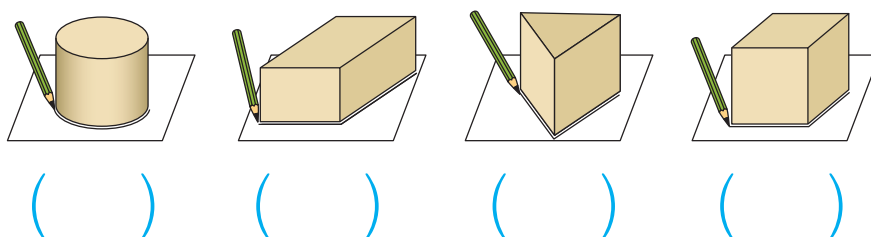
(10てん)



4 かたちを うつして えを かきました。  
 つかった かたちに ぜんぶ ○を つけましょう。



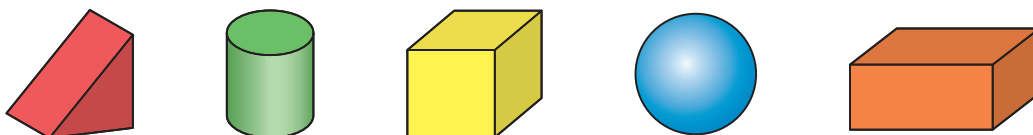
(ぜんぶ できて 20てん)



5 つぎの かたちは どれですか。ぜんぶ せんで かくみましょう。

ぜんぶ できて 1もん10てん(20てん)

① つむ ことが できる かたち



② ころがる かたち

