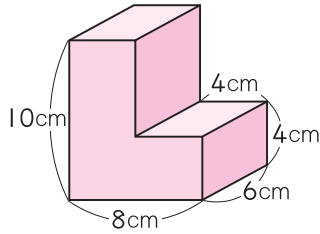


4 よく出る 次のような図形の体積を求めましょう。

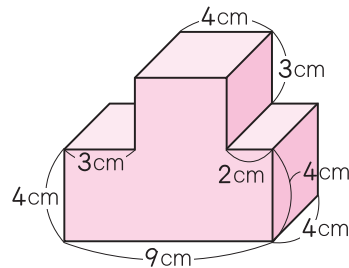
各5点(20点)

①



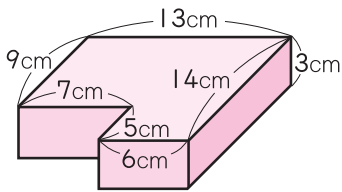
()

②



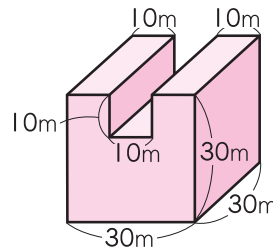
()

③



()

④



()

思考・判断・表現

/20点

5 内のりが、たて 30 cm、横 60 cm、深さ 40 cm の直方体の形をした水そうがあります。

各5点(10点)

① この水そうの容積は何 cm^3 ですか。

()

② この水そうに深さ 15 cm まで水を入れると、水の体積は何 L になりますか。

()

6 たて 8 cm、横 4 cm の直方体があります。

各5点(10点)

① 体積が 160 cm^3 のとき、高さは何 cm ですか。

()

できたらスゴイ!

② 1辺 8 cm の立方体と体積が同じになるとき、高さは何 cm ですか。

()

