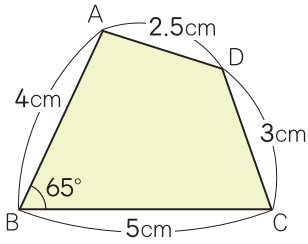


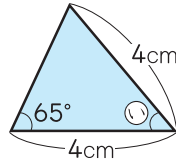
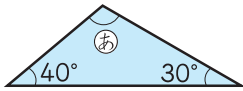
4 下の図のような四角形をかきましょう。

(7点)



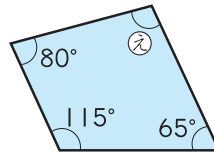
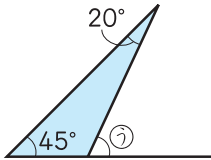
5 **よくなる** 下の図のあ, い, う, えの角の大きさは、それぞれ何度ですか。

各7点(28点)



あ ()

い ()



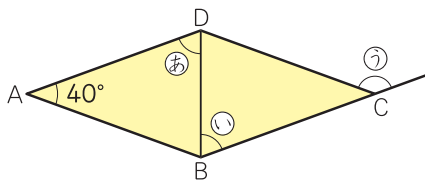
う ()

え ()

思考・判断・表現 / 23点

6 **よくなる** 下の四角形ABCDはひし形です。
あ, い, うの角の大きさは、それぞれ何度ですか。

各6点(18点)



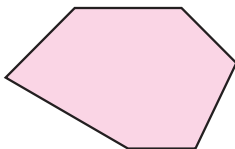
あ ()

い ()

う ()

7 6本の直線で囲まれた図形を六角形といいます。
六角形の6つの角の大きさの和は何度ですか。

(5点)



()

