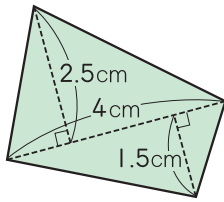


4 次の四角形や五角形の面積を求めましょう。

式・答え 各4点(16点)

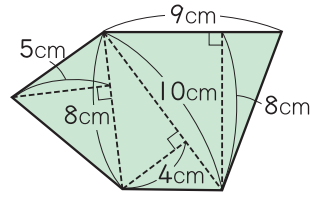
①



式

答え ( )

②



式

答え ( )

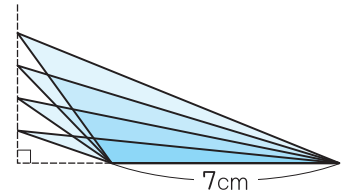
思考・判断・表現

/20点

5 右の図のように、三角形の底辺を7cmときめて、高さを1cm, 2cm, 3cm, ……と変えていきます。

各5点(10点)

① 高さが1cm<sup>ふ</sup>増えると、面積は何cm<sup>2</sup>増えますか。



( )

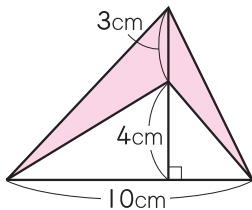
② 面積は高さ<sup>ひれい</sup>に比例しますか。

( )

6 下の図で、色をぬった部分の面積を求めましょう。

各5点(10点)

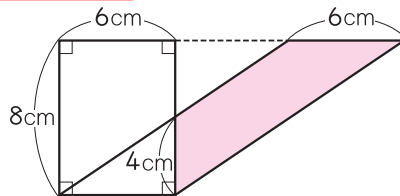
①



( )

あきたらすゴイ!

②



( )

