

# 正三角形と二等辺三角形(3)

名前 \_\_\_\_\_

【1】 次の三角形の名前を答えなさい。

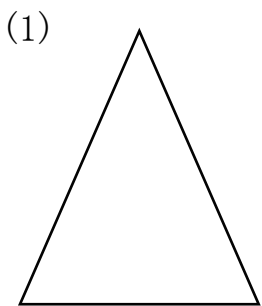
(1) 3本の辺の長さが2cm,5cm,5cmの三角形

答え 二等辺三角形

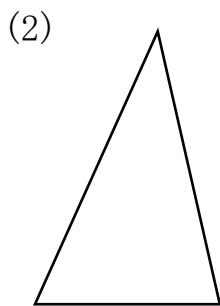
(2) 3本の辺の長さが4cm,4cm,4cmの三角形

答え 正三角形

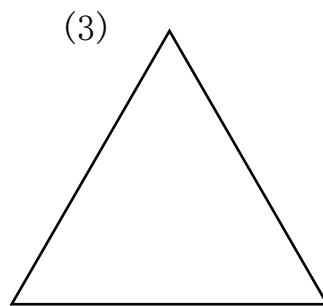
【2】 次の三角形のうち、正三角形には○、二等辺三角形には△、どちらもでない三角形には×をつけなさい。



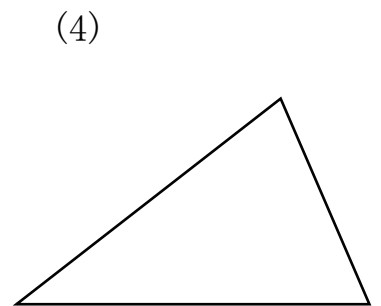
( △ )



( × )



( ○ )



( × )

【3】 下の円は半径が3cmの円です。この円の半径をつかって、3つの辺の長さが、2cm, 3cm, 3cmの二等辺三角形をかきなさい。

