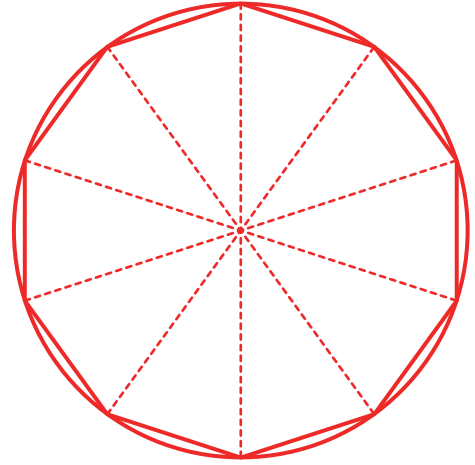
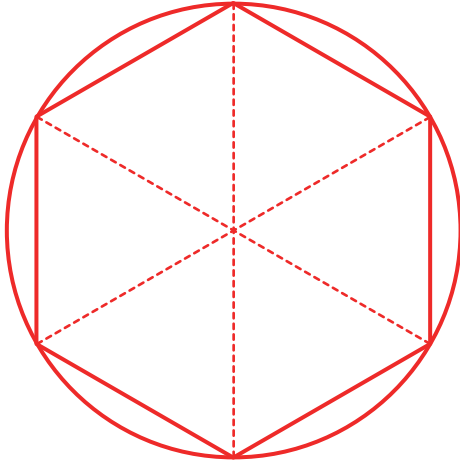


【1】半径3cmの円をかいて、その円を使って次の正多角形を書きなさい。

(1) 正六角形

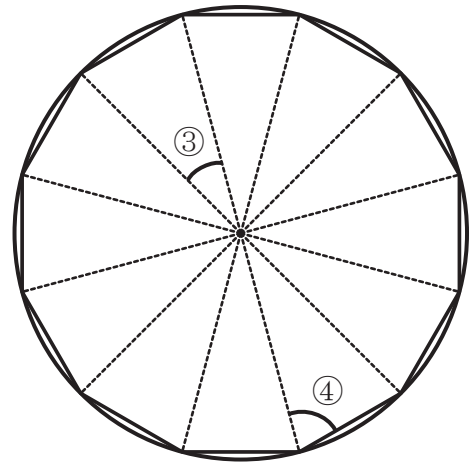
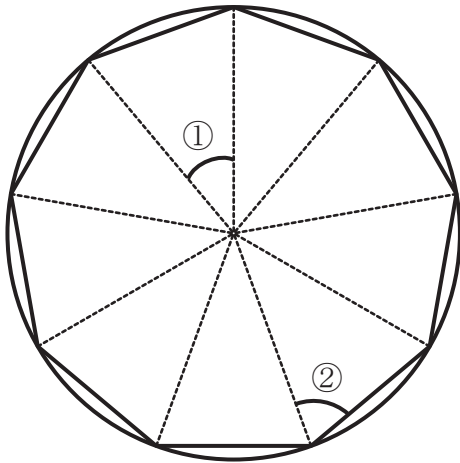
(2) 正十角形



【2】次の①から④の角度を求めなさい。

(1) 正九角形

(2) 正十二角形



① 式 $360 \div 9 = 40$

答え 40°

② 式 $(180 - 40) \div 2 = 70$

答え 70°

③ 式 $360 \div 12 = 30$

答え 30°

④ 式 $(180 - 30) \div 2 = 75$

答え 75°