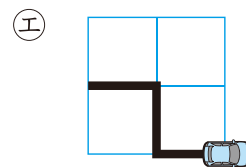
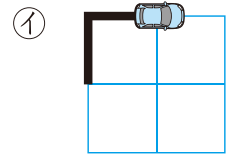
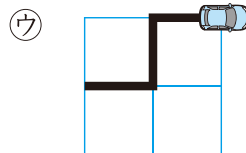
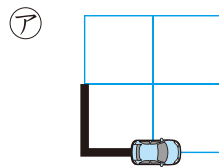
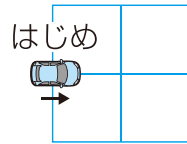
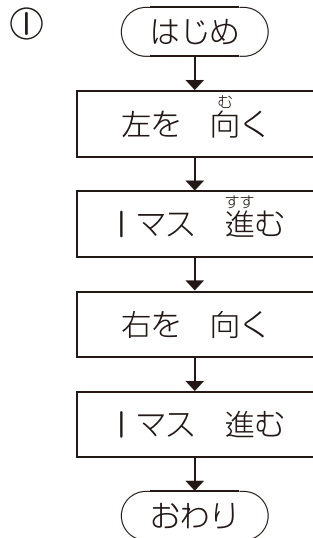




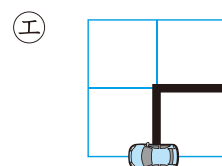
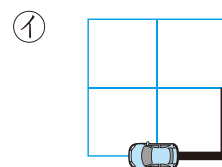
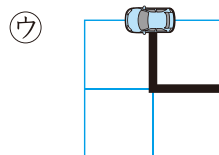
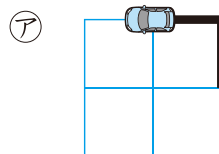
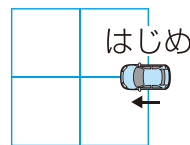
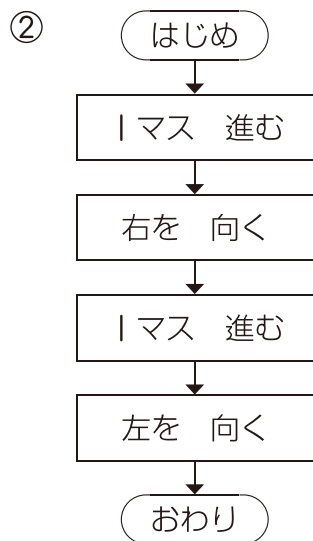
4 じゅんじょ ④

月 日	時 分~ 時 分
名前	
点	

1 車のロボットを動かして線をかきます。次のように命れいしたとき、どんな線になりますか。 50点(1つ25)



()



()



ドリルの王様
公式サイトは
こちら

予習復習に便利な
教科書ぴったりに
トレーニング
公式サイトはこちら