



# くり返し③

月	日	時	分~	時	分
名前				点	

1 ロボットは、命れ<sup>めい</sup>いしたじゅんに、左からくだものをならべます。

はじめ

2回  
くり返す

りんごを おく

みかんを おく


ここまで

おわり

はじめ

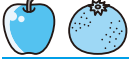
---

↓りんごを おく





---

↓みかんを おく





---

↓りんごを おく




---

↓みかんを おく



つぎ 次のように命れ<sup>めい</sup>いしたとき、くだものは、どのようにならびますか。 30点

はじめ


3回  
くり返す


みかんを おく


バナナを おく


ここまで

おわり

ア 

イ 

ウ 

エ 

( )

