


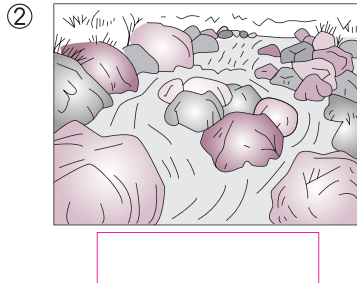



6 流れる水のはたらき
上流と下流の石のちがい


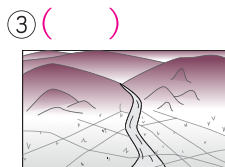
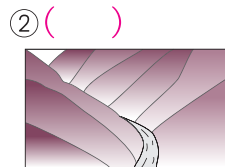
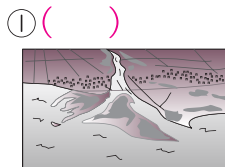
名前

/100点

★ 下の図は、川の様子を表したものです。□ にあてはまる場所を、「山の中」、「平地」、「海の近く」から選んでかきましょう。💡 30点(1つ10点)



★ 下の①～③の地形が見られるのは、右の図の㉗～㉙のどこですか。() に記号をかきましょう。 30点(1つ10点)



★ 次の□にあてはまる言葉を、□ から選んでかきましょう。💡 20点(1つ5点)

- (1) 山の中の川では、角ばった□□□石がある。 (1) _____
- (2) 平地で見られるのは、□□のある石である。 (2) _____
- (3) 海の近くでは、流れがおそく、□□や小石が積もる。 (3) _____
- (4) 土や石が積もるのは、流れが□□□ところである。 (4) _____

すな 丸み 大きな 小さな 速い おそい

20点(なぞりは点数なし)



山の中、平地、海の近くでは、川のはば、水の流れの速さ、川原の石の形や(**大きさ**)などが { **変わらない・変わる** }。



★ 山の中は、川の流れが速く、土地をけずっていきます。

★ 石は、山の中から平地、海の近くへ流される間に、大きさや形が変わっていきます。

