

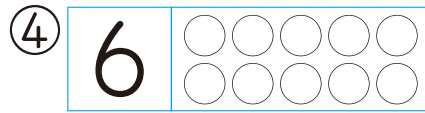
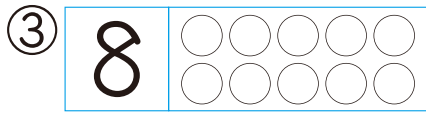
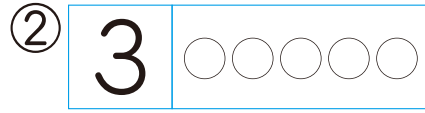
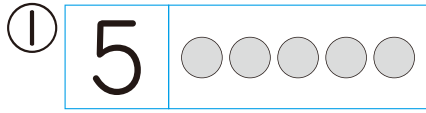


じゅんぴ ①

が 月	に 日	じ	ふん～	じ	ふん
なまえ				てん	

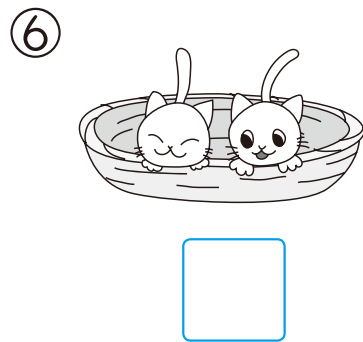





① すうじと おなじ かずだけ ○に いろをぬりましょう。

20てん(1つ5)



② かずを かぞえて すうじて かきましょう。

30てん(1つ5)



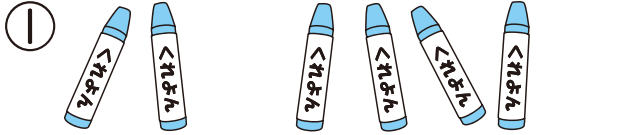


あわせて いくつ ふえると いくつ


が 月	に 日	じ ふん~	じ ふん
なまえ		てん	

1 あわせて いくつですか。

24てん(1つ6)




あわせて
(6) ぽん



ぜんぶで
() ひき




みんなで
() わ



あわせて
() ほん


2 あわせて いくつですか。

26てん(しき7・こたえ6)



しき ($3 + 6 = 9$)

こたえ () ほん



しき ()

こたえ () こ

しきに かいて
かんがえよう。





15 まとめテスト

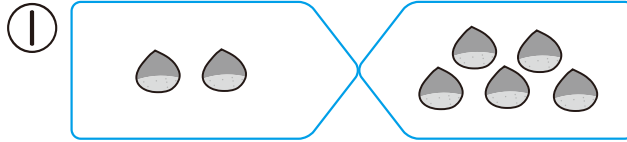
がつ 月 日にち 日 もくひょうじかん 15 ぶん

なまえ

てん

① いくつに なりますか。


16てん(しき4・こたえ4)



あわせて なんこ

しき ()

こたえ ()こ



ふえると なんわ

しき ()

こたえ ()わ

② 6は いくつと いくつですか。

12てん(1つ4)

① 1 と ② 3 と ③ 4 と

③ こたえが おなじ かあどを で つなぎましょう。

16てん(1つ4)

3+2	3+5	5-1	9-2
•	•	•	•
•	•	•	•
10-2	4+0	1+6	7-2

新興出版社 × ちびむすドリル Special コラボ

ドリルの王様

楽しく取り組めるから長続きする!
各種検定試験、また学習指導要領にも対応!



ドリルの王様

or 教科書ぴったりにトレーニング

検索

ドリルの王様
公式サイトは
こちら



予習復習に便利な
教科書ぴったり
トレーニング
公式サイトはこちら





17

20までの かずの ひきざん

が 月	に 日	じ ふん～	じ ふん
なまえ		てん	

① のこりは いくつに なりますか。 16てん(しき4・こたえ4)

① → 4まい たべました。

→

しき ($14 - 4 = 10$) こたえ () まい

② → 2こ たべました。

しき () こたえ () こ

② ひきざんを しましょう。 40てん(1つ4)

① $11 - 1 = \square$

② $17 - 7 = \square$

③ $19 - 9 = \square$

④ $13 - 3 = \square$

⑤ $16 - 2 = \square$

⑥ $18 - 6 = \square$

⑦ $12 - 1 = \square$

⑧ $19 - 3 = \square$

⑨ $17 - 5 = \square$

⑩ $13 - 2 = \square$



ドリルの王様
公式サイトは
こちら

予習復習に便利な
教科書ぴったり
トレーニング
公式サイトはこちら



8+●、7+●の
くりあがりの ある たしざん

が 月	に 日	じ ふん~	じ ふん
なまえ		てん	

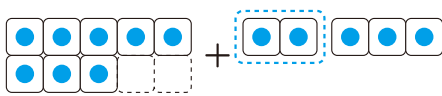
1 □にはいる かずをかきましょう。 60てん(1つ5)

① 8+5の けいさん

$$\begin{array}{r} 8+5 \\ \swarrow \searrow \\ 2 \quad 3 \end{array}$$

5を 2と に わける。

8に を たして 10



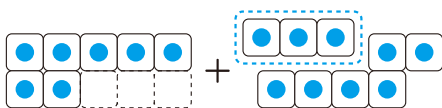
10と で

② 7+9の けいさん

$$\begin{array}{r} 7+9 \\ \swarrow \searrow \\ 3 \quad 6 \end{array}$$

9を 3と に わける。

7に を たして 10



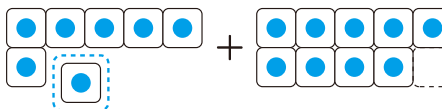
10と で

③ 7+9の べつの けいさんの しかた

$$\begin{array}{r} 7+9 \\ \swarrow \searrow \\ 6 \quad 1 \end{array}$$

7を 6と に わける。

9に を たして 10



10と で





たしざんと ひきざん

(2)①

が 月	に 日	じ ふん～	じ ふん
なまえ		てん	

1 たしざんを しましょう。

24てん(1つ3)

① $9 + 2 =$

② $8 + 3 =$

③ $5 + 7 =$

④ $4 + 9 =$

⑤ $6 + 6 =$

⑥ $9 + 6 =$

⑦ $8 + 7 =$

⑧ $7 + 7 =$



2 ひきざんを しましょう。

24てん(1つ3)

① $14 - 9 =$

② $12 - 8 =$

③ $11 - 4 =$

④ $14 - 7 =$

⑤ $15 - 6 =$

⑥ $16 - 9 =$

⑦ $13 - 7 =$

⑧ $11 - 3 =$

