





# 17

## 20までの かずの ひきざん

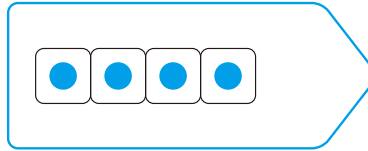
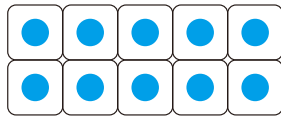
が 月	に 日	じ ふん～	じ ふん
なまえ		てん	

① のこりは いくつに なりますか。 16てん(しき4・こたえ4)

①

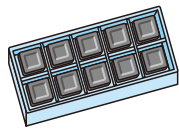


→ 4まい たべました。



しき (  $14 - 4 = 10$  ) こたえ ( ) まい

②



→ 2こ たべました。

しき ( ) こたえ ( ) こ

② ひきざんを しましょう。 40てん(1つ4)

①  $11 - 1 = \square$

②  $17 - 7 = \square$

③  $19 - 9 = \square$

④  $13 - 3 = \square$

⑤  $16 - 2 = \square$

⑥  $18 - 6 = \square$

⑦  $12 - 1 = \square$

⑧  $19 - 3 = \square$

⑨  $17 - 5 = \square$

⑩  $13 - 2 = \square$

