



8+●、7+●の
くりあがりの ある たしざん

が 月	に 日	じ ふん~	じ ふん
なまえ		てん	

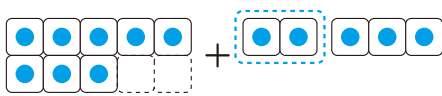
1 □にはいる かずをかきましょう。 60てん(1つ5)

① 8+5の けいさん

$$\begin{array}{r} 8+5 \\ \quad \swarrow \downarrow \\ \quad 2 \quad 3 \end{array}$$

5を 2と に わける。

8に を たして 10



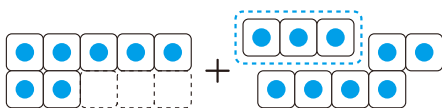
10と で

② 7+9の けいさん

$$\begin{array}{r} 7+9 \\ \quad \swarrow \downarrow \\ \quad 3 \quad 6 \end{array}$$

9を 3と に わける。

7に を たして 10



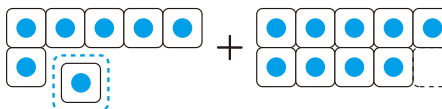
10と で

③ 7+9の べつの けいさんの しかた

$$\begin{array}{r} 7+9 \\ \quad \swarrow \downarrow \\ \quad 6 \quad 1 \end{array}$$

7を 6と に わける。

9に を たして 10



10と で

