



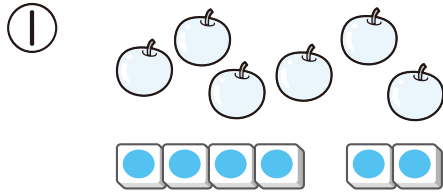
18

のこりは いくつ、  
ちがいは いくつ

が 月	に 日	じ ふん~	じ ふん
なまえ		てん	


1 のこりは いくつでしょう。

24てん(1つ8)



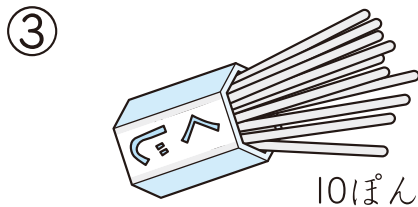
2こ たべると、

のこりは こ



3びき かえると、

のこりは ひき

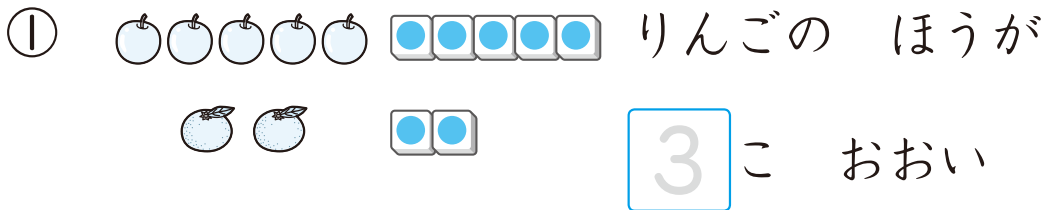


4ほん あたりだと


はずれは ぽん

2 ちがいは いくつでしょう。

16てん(1つ8)



こ おおい



ちがいは、

だい

