




ただしいのは どっちかな

が 月	に 日	じ ぶん~	じ ぶん
なまえ		てん	


① 11じの とけいは どちらですか。

15てん

あ



い



ながい はりと
みじかい はりを
よく みて
こたえようね。



(あ)

② 2じはんの とけいは どちらですか。

15てん

あ



い




()

③ ただしいのは どちらですか。

20てん(1つ10)

① 1じ

あ



い



(い)

② 7じはん

あ



い



()

