

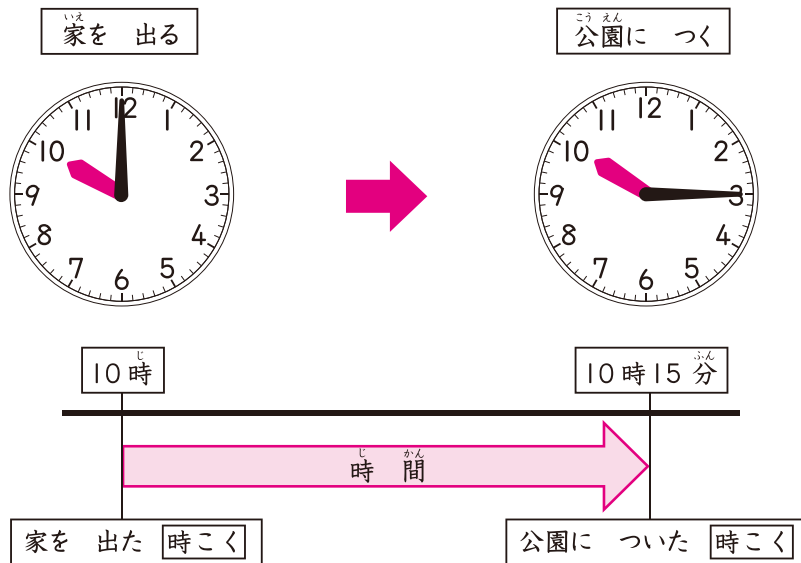


3 時こくと 時間

月	日	時	分	分
名前		てん点		

1 □に ^{かず} 数を かきましょう。

40点(□1つ10)



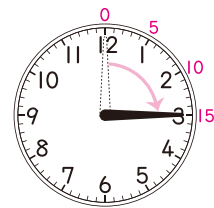
時計の ^{とけい} はりが さして いる 「とき」を 時こくと いいます。

家を出た 時こくは 10時、

公園についた 時こくは □時 □分です。

時こくと 時こくの ^{あいだ} 間の ^{なが} 長さを 時間と いいます。
家を出てから 公園につくまでの 時間は、
長い はりが 15目もり うごいて いるので

15分です。



時こくと 時こくの
間が 時間だね。

長い はりが 1目もり
うごく 時間が 1分です。
時間の 1分を 「1分間」と
いう こと も あります。



新興出版社 × ちびむすドリル Special コラボ

ドリルの王様

楽しく取り組めるから長続きする！
各種検定試験、また学習指導要領にも対応！



ドリルの王様

or

教科書ぴったりにトレーニング

検索

ドリルの王様
公式サイトは
こちら



予習復習に便利な
教科書ぴったりに
トレーニング
公式サイトはこちら

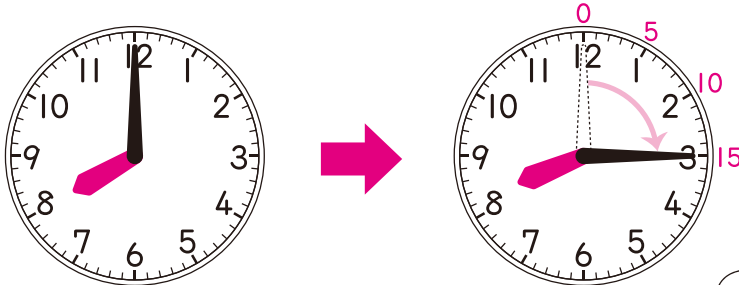




4 何分を 答えよう ①

月	日	時	分	分
名前		点		

① 左の ^じ時^かくから 右の ^じ時^{かん}こくまでの ^{なん}時間^{ぶん}は 何分ですか。
に ^{かず}数を かきましょう。 10点(○1つ5)



^{なが}長い はりが |目もり
うごく 時間が |分だから...



5、10、15、...のように、
5とびで かぞえる ことも
できます。

長い はりが 15目もり うごいたから 15^{ぶん}分です。

② 左の 時こくから 右の 時こくまでの 時間は 何分ですか。 30点(1つ10)

① → (10分)

② → ()

③ → ()



ドリルの王様
公式サイトは
こちら

予習復習に便利な
教科書ぴったり
トレーニング
公式サイトはこちら



13

何時間を 答えよう ①

月 日 時 分~ 時 分

なまえ
名前

てん
点

1 ^{こうえん}公園に ^{いた}いた ^{じかん}時間は ^{なん}何時間ですか。

に ^{かず}数を かきましょう。

40点(○1つ10)

公園に つく

公園を 出る



公園に いた 時間は
どれぐらいかな？

^{なが}長い はりが ひとまわりして
いるよ。



公園に ついた 時こくは 時です。

公園を 出た 時こくは 時です。

9時から 10時までに、長い はりは ひとまわりします。

長い はりが ひとまわりする 時間は ^{ぶん}分で、

60分は 1時間です。

1時間=60分

公園に いた 時間は

時間です。

1時間で、
長い はりは ひとまわり、
みじかい はりは ^{とけい}時計の
^{すうじ}数字 ひとつぶん
うごきます。

新興出版社 × ちびむすドリル Special コラボ

ドリルの王様

楽しく取り組めるから長続きする！
各種検定試験、また学習指導要領にも対応！



ドリルの王様

or 教科書ぴったりにトレーニング

検索

ドリルの王様
公式サイトは
こちら



予習復習に便利な
教科書ぴったり
トレーニング
公式サイトはこちら

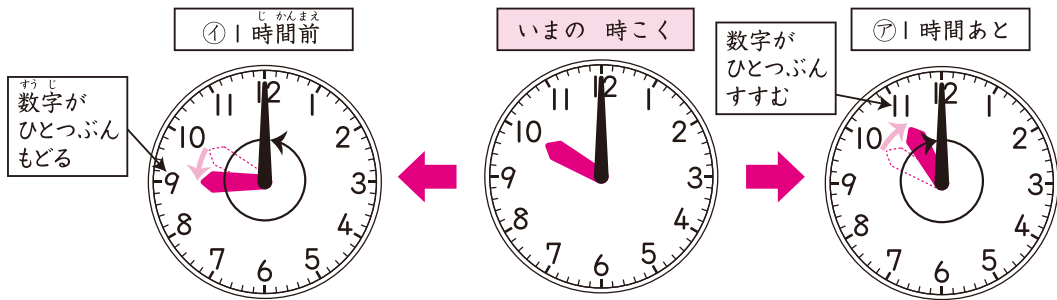




17 時こくを 答えよう ①

月	日	時	分
名前		点	

① いま 10時です。□に 数を かきましょう。 10点(□1つ5)



② 1時間あとの 時こく
 長い はりが 右むきに ひとまわりします。
 みじかい はりの 数字が ひとつぶん すすんで
 □時に なります。

③ 1時間前の 時こく
 長い はりが 左むきに ひとまわりします。
 みじかい はりの 数字が ひとつぶん もどって
 □時です。

② いま 5時です。つぎの 時こくを 答えましょう。 10点(1つ5)

③ 1時間あと

()

④ 1時間前

()



「長い はりが 左むきに ひとまわりすると 1時間前の 時こくに なるね。」



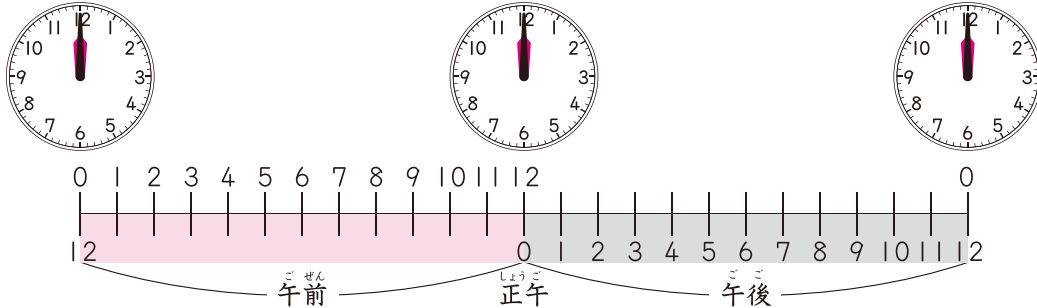


午前と午後

月	日	時	分
名前		てん点	

① 下の ^す図を見て、□に ^{かず}ことばや 数を かきましょう。

80点(□1つ10)

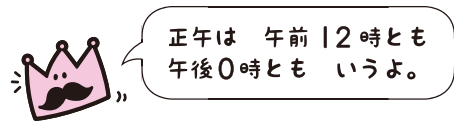


- ① 夜の 0時から 昼の 12時までを **午前** と いいます。
- ② 昼の 0時から 夜の 12時までを **午後** と いいます。
- ③ 昼の 12時の ことを **正午** と いいます。

午前 12時は 午後 時とも いいます。

午後 12時は 午前 時とも いいます。

- ④ 午前は ^{じかん}時間です。
- ⑤ 午後は 時間です。
- ⑥ 1日は 時間です。





31 時間の たんい

月	日	時	分	分
名前		てん点		

1 □に ^{かず} 数を かきましょう。

60点(1つ6)

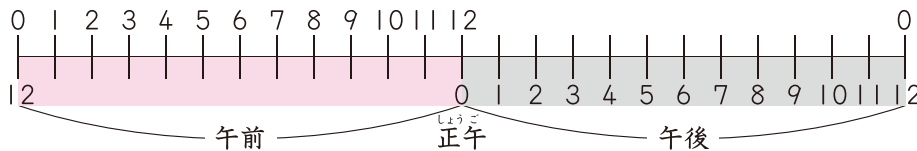
- ① 1時間 = □ 分 ② 1時間 30分 = □ 分
- ③ 1時間 40分 = □ 分 ④ 1時間 25分 = □ 分
- ⑤ 1時間 55分 = □ 分 ⑥ 60分 = □ 時間
- ⑦ 70分 = □ 時間 □ 分 ⑧ 110分 = □ 時間 □ 分
- ⑨ 65分 = □ 時間 □ 分 ⑩ 95分 = □ 時間 □ 分

2 □に 数を かきましょう。

15点(1つ5)

- ① 午前は □ 時間 ② 午後は □ 時間
- ③ 1日は □ 時間

1日は、午前が 12 時間と
午後は 12 時間で 24 時間だね。



新興出版社 × ちびむすドリル Special コラボ

ドリルの王様

楽しく取り組めるから長続きする!
各種検定試験、また学習指導要領にも対応!



ドリルの王様 or 教科書ぴったりにトレーニング 検索

ドリルの王様
公式サイトは
こちら

予習復習に便利な
教科書ぴったり
トレーニング
公式サイトはこちら