

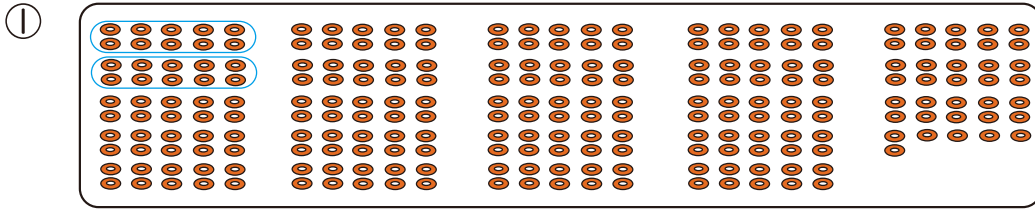


100をこえる 数のあらかた


月	日	時	分	分
名前		てん点		

① なん 何こ あるでしょう。

15点(1つ5)



(二百三十六) に



() に



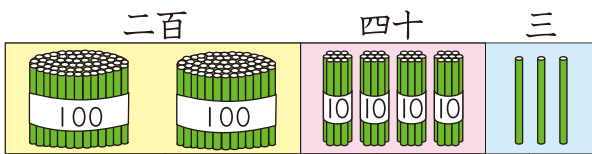
() に

100を 2こ
あつめた ^{かず} 数を
二百と いうよ。
二百と 三十六で
二百三十六だね。



② 二百四十三を ^{すうじ} 数字で かきましょう。

12点(1つ3)



二百四十三は

2	4	3
百の くらい	十の くらい	一の くらい

100 を こ

10 を こ

1 を こ

あわせた 数で、 と かきます。



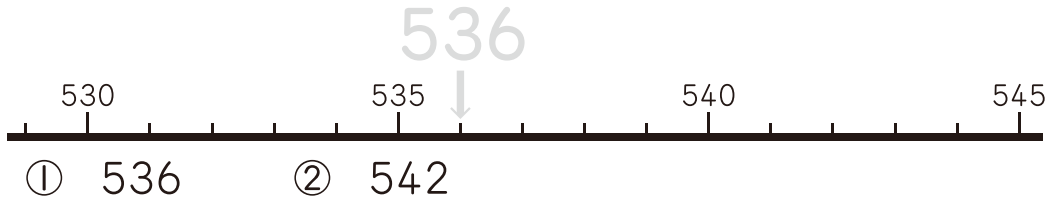


1000までの数の大小

月	日	時	分	分
名前		てん点		

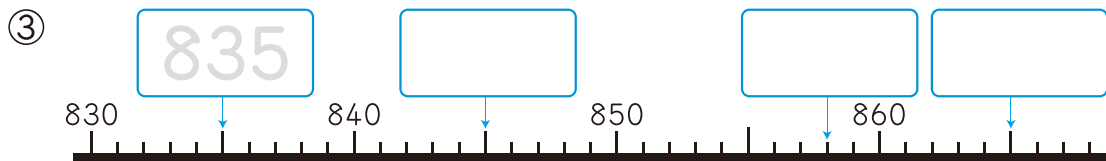
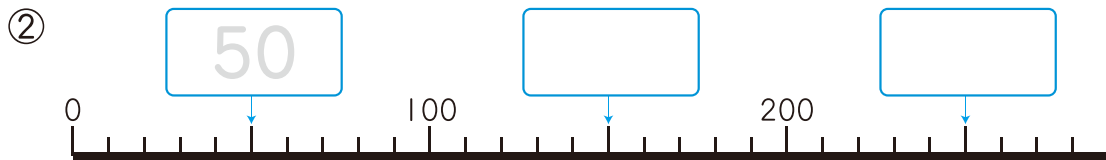
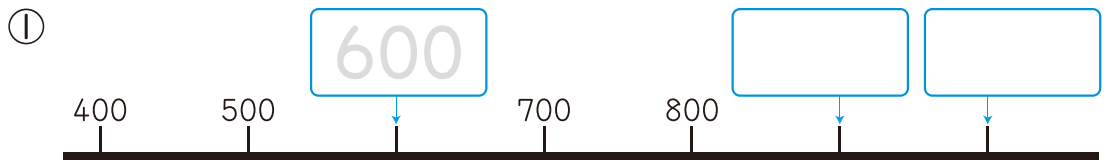
① 下の ^{かず}数の線に、つぎの ^{せん}数を ↓で かき入れましょう。

8点(1つ2)



② □に あてはまる 数を かきましょう。

20点(1つ2)



数の線は
右へ いくほど
数が 大きいよ。

1目もりが
いくつに
なるか
かんが
えよう。

新興出版社 × ちびむすドリル Special コラボ

ドリルの王様

楽しく取り組めるから長続きする!
各種検定試験、また学習指導要領にも対応!

ドリルの王様

or 教科書ぴったりにトレーニング

検索

ドリルの王様
公式サイトは
こちら



予習復習に便利な
教科書ぴったり
トレーニング
公式サイトはこちら






分けた 大きさを あらわす 数

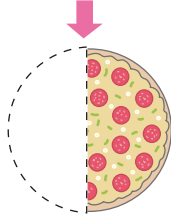
月	日	時	分	分
名前			点	

1 つぎの に あてはまる ^{かず} 数や ^{ことば} ことばを かきましょう。

20点(1つ4)



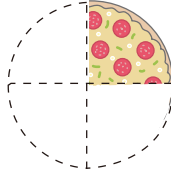
ピザを ^{はんぶん} 半分に します。半分の ピザは もとの
ピザを 2つに ^{おな} 同じように 分けた 大きさの 1
つ分なので、もとの 大きさの



と いい、 とかきます。

↳ にぶんのいち と よみます。

また、左下の ^ず 図の ピザは 4つに 同じように
分けた 大きさの 1つ分なので、もとの 大きさの



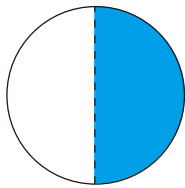
と いい、 と

かきます。このような数を と いいます。

2 ○を もとの 大きさと する とき、^{いろ} 色を めった ところの
大きさを ^{ぶんすう} 分数で あらわしましょう。

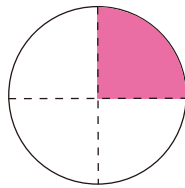
15点(1つ5)

①



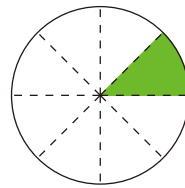
()

②



()

③



()



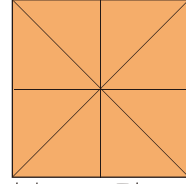

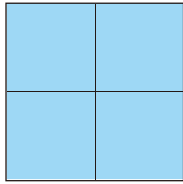


19 三角形と 四角形のもようづくり

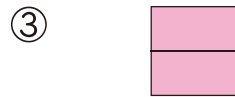
月	日	時	分	分
名前		点		

1 いろがみ色紙を 下のように 切りました。

50点(1つ10)



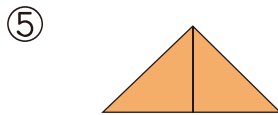
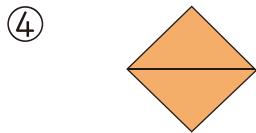
切った 色紙を 2つ ならべて できた 形を 答えましょう。



()

()

()



()

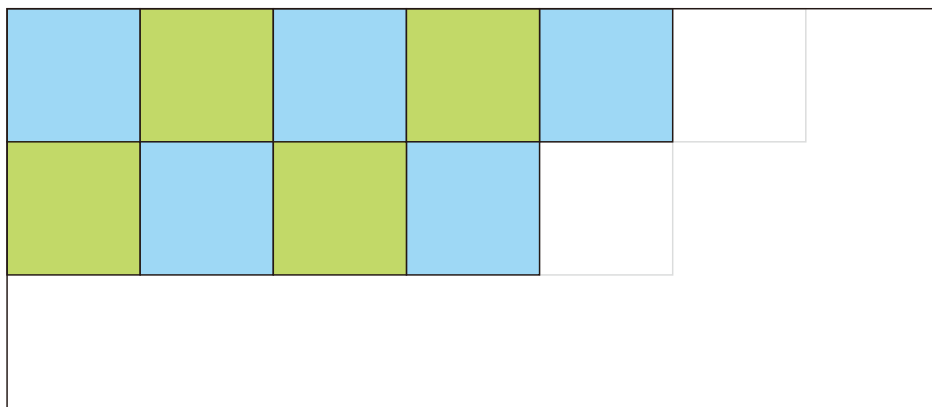

()

しかくけい さんかくけい
四角形や 三角形
ができるね。



2 右のような 正方形の 色紙を ならべて、
もようをつくりまます。もようの つづきを
かきましょう。

10点





27

ミリメートルの長さ

月	日	時	分	分
名前		てん点		

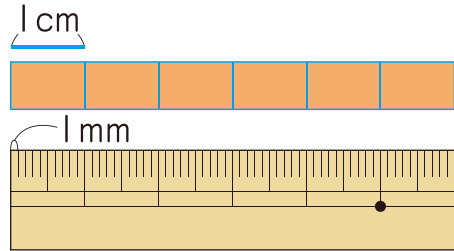
① に あてはまる ^{かず}数や ^{おななが}ことばを かきましょう。15点(1つ5)

① 1cm を 同じ ^{おな}長さに 10 こに ^わ分けた ^{ぶん}1つ分の 長さを 1ミリメートル(1ミリ)と いい、1mm と かきます。

② ものさしの 小さい 1目もりは

mm です。

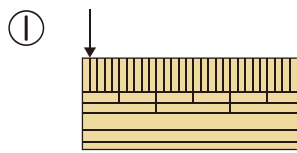
1cm = mm です。



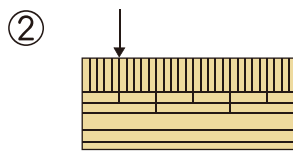
③ cm や mm は 長さの です。

② 左の はしから ↓までの 長さは ^{なん}何 mm でしょう。

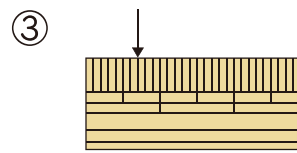
30点(1つ5)



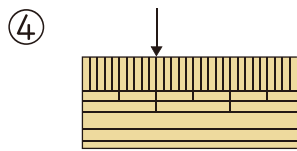
(1 mm)



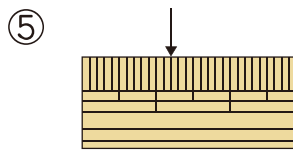
()



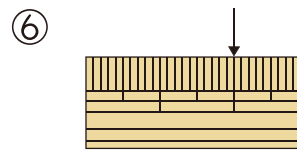
()



(10 mm)



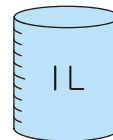
(12 mm)



()



① つぎの に あてはまる ^{かず} 数を かきましょう。 10点
 水などの かさは まずで はかり、その ^{ぶん} いくつ 分で あらわします。右の まずの 水の かさを 1リットルと いい、1Lと かきます。



1Lの 2つ分は Lに なります。

② 入れものにはいる 水の かさは ^{なん} 何Lでしょう。 30点(1つ5)

① すいとう (2L)

② やかん ()

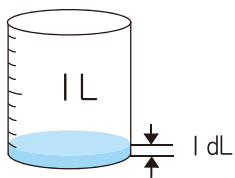
③ なべ ()

④ ポット ()

⑤ バケツ ()

⑥ ポリタンク ()

③ つぎの に あてはまる 数を かきましょう。 5点



1Lを ^{おな} 同じ かさに に ^わ 分けた
 1つ分の かさを 1デシリットルと いい、
 1dLと かきます。

