

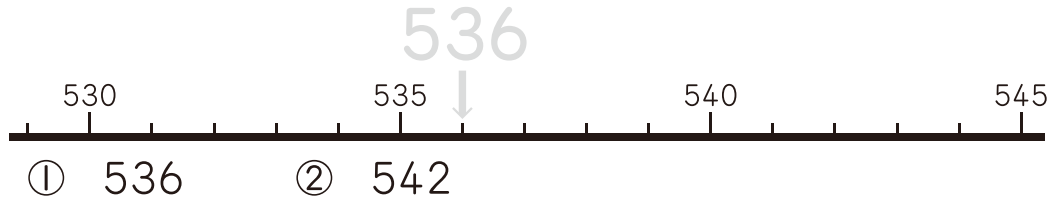


1000までの数の大小

月	日	時	分	分
名前		てん点		

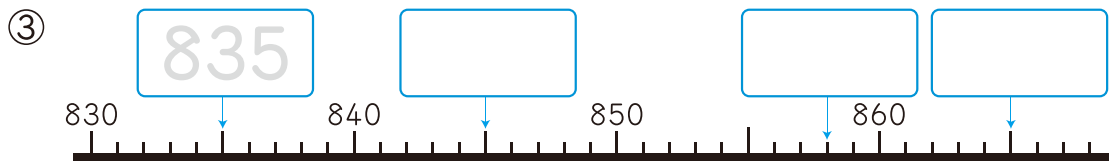
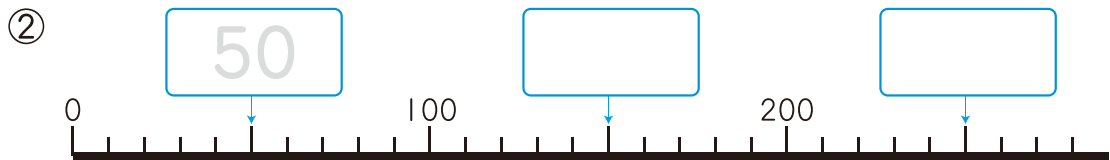
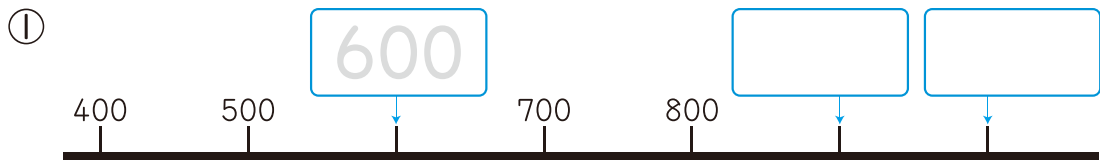
① 下の ^{かず}数の線に、つぎの ^{せん}数を ↓で かき入れましょう。

8点(1つ2)



② □に あてはまる 数を かきましょう。

20点(1つ2)



数の線は
右へ いくほど
数が 大きいよ。

1目もりが
いくつに
なるか
かんが
えよう。

新興出版社 × ちびむすドリル Special コラボ

ドリルの王様

楽しく取り組めるから長続きする!
各種検定試験、また学習指導要領にも対応!



ドリルの王様

or 教科書ぴったりにトレーニング

検索

ドリルの王様
公式サイトは
こちら



予習復習に便利な
教科書ぴったり
トレーニング
公式サイトはこちら

