

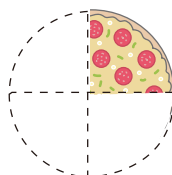
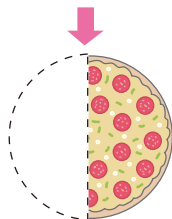



# 分けた 大きさを あらわす 数

月	日	時	分	分
名前			点	

1 つぎの  に あてはまる <sup>かず</sup> 数や <sup>ことば</sup> ことばを かきましょう。

20点(1つ4)



ピザを <sup>はんぶん</sup> 半分に します。半分の ピザは もとの  
ピザを 2つに <sup>おな</sup> 同じように 分けた 大きさの 1  
つ分なので、もとの 大きさの

と いい、 とかきます。

↳にぶんのいち と よみます。

また、左下の <sup>ず</sup> 図の ピザは 4つに 同じように  
分けた 大きさの 1つ分なので、もとの 大きさの

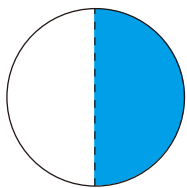
と いい、 と

かきます。このような数を  と いいます。

2 ○を もとの 大きさと する とき、色を <sup>いろ</sup> ぬった ところの  
大きさを <sup>ぶんすう</sup> 分数で あらわしましょう。

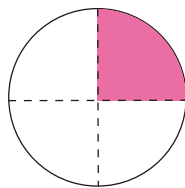
15点(1つ5)

①



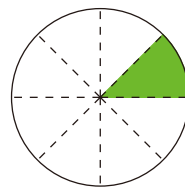
(  )

②



(  )

③



(  )

