

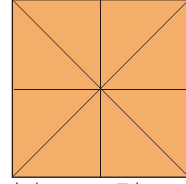

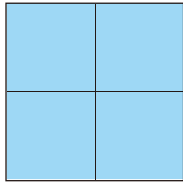


19 三角形と 四角形のもようづくり

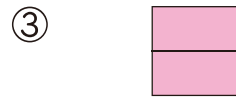

月	日	時	分	分
名前		点		

1 いろがみ色紙を 下のように 切りました。

50点(1つ10)



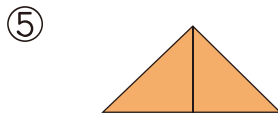
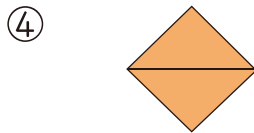
切った 色紙を 2つ ならべて できた 形を 答えましょう。



()

()

()



()

()

しかくけい さんかくけい
四角形や 三角形
が できるね。



2 右のような 正方形の 色紙を ならべて、
もようを つくります。もようの つづきを
かきましょう。

10点

