



27

ミリメートルの長さ

月	日	時	分
名前		てん点	

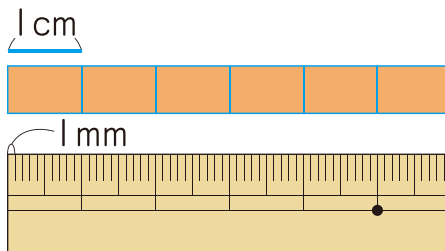
① □にあてはまる^{かず}数や^{おななが}ことばをかきましょう。**15点(1つ5)**

① 1cmを^{おな}同じ^{なが}長さに10こに分けた^{ぶん}1つ分の長さを1ミリメートル(1ミリ)といい、1mmと^かかきます。

② ものさしの小さい1目もりは

□ mmです。

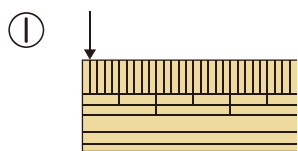
1cm = □ 10 mmです。



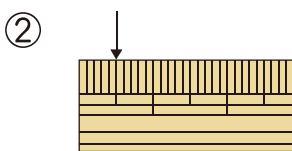
③ cmやmmは長さの^{たんい}たんい

② 左のはしから↓までの長さは^{なん}何mmでしょう。

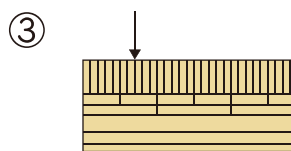
30点(1つ5)



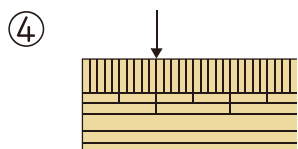
(1 mm)



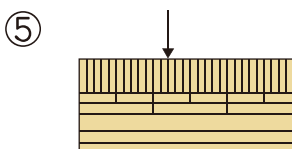
()



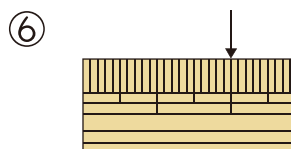
()



(10 mm)



(12 mm)



()

