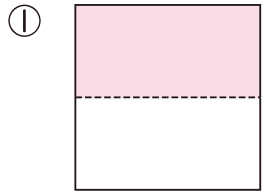




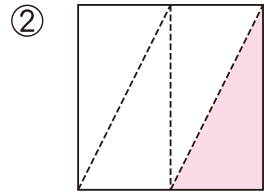
# 6 分数②

月	日	時	分	分
なまえ 名前			てん 点	

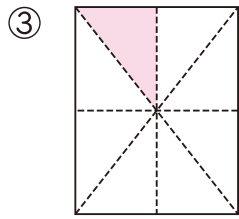
1 いろ ぶんすう 分数で かきましょう。 20点(1つ5)



( )



( )

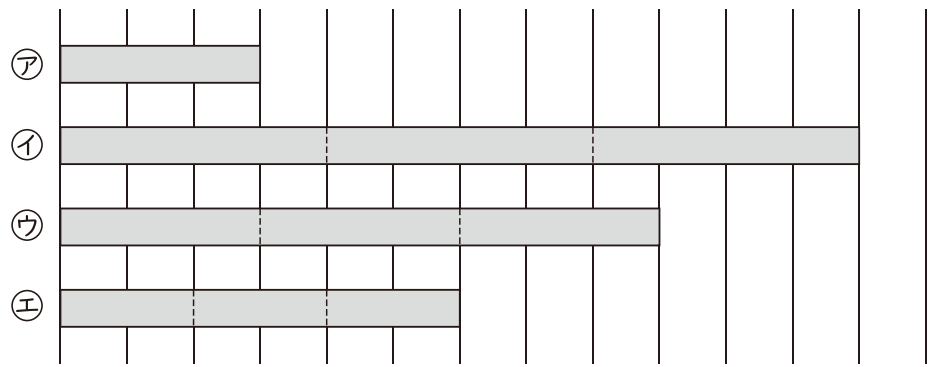


( )



( )

2 ㊦の テープは、ある テープを 同じ ながに 3つに わけた 1つ分で、もとの ながの  $\frac{1}{3}$ です。もとの ながの テープは、どれですか。㊦、㊧、㊨の 中から えらびましょう。 20点



( )

