



# 25

## 割合 ⑧

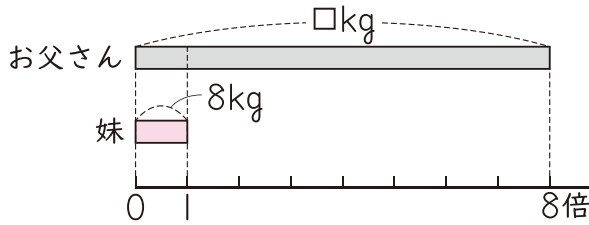
月 日 時 分 ~ 時 分

なまえ  
名前

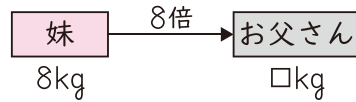
てん  
点

1 ゆうきさん、妹、お父さんの3人で体重をくらべます。 **36点(式9・答え9)**

① 妹の体重8kgの8倍がお父さんの体重です。お父さんの体重は何kgですか。



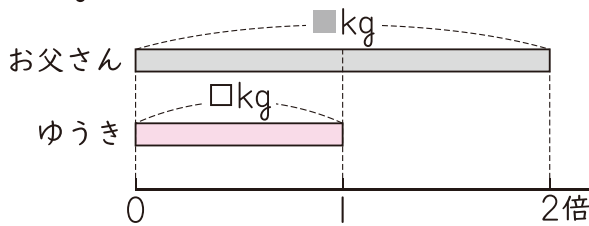
妹の8倍はお父さん



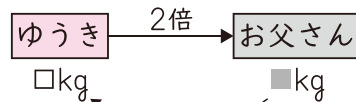
しき  
式

こた  
え ( )

② ゆうきさんの体重の2倍がお父さんの体重です。ゆうきさんの体重は何kgですか。



ゆうきの2倍はお父さん



お父さんの体重は、①で求めたね。



式

答え ( )

新興出版社 × ちびむすドリル Special コラボ

# ドリルの王様

楽しく取り組めるから長続きする!  
各種検定試験、また学習指導要領にも対応!



ドリルの王様

or

教科書ぴったりにトレーニング

検索

ドリルの王様  
公式サイトは  
こちら



予習復習に便利な  
教科書ぴったりに  
トレーニング  
公式サイトはこちら

