

答え

2~4年の

ばいの計算・割合



2 九九 ②

- 1
- ① 6 ② 8
 - ③ 12 ④ 40
 - ⑤ 5 ⑥ 9
 - ⑦ 24 ⑧ 14
 - ⑨ 30 ⑩ 20
 - ⑪ 7 ⑫ 24
 - ⑬ 18 ⑭ 6
 - ⑮ 72 ⑯ 21
 - ⑰ 56 ⑱ 54
- 2
- ① 10 ② 12
 - ③ 18 ④ 4
 - ⑤ 35 ⑥ 27
 - ⑦ 36 ⑧ 16
 - ⑨ 8 ⑩ 15
 - ⑪ 36 ⑫ 2
 - ⑬ 3 ⑭ 28
 - ⑮ 56 ⑯ 45
 - ⑰ 12 ⑱ 32
 - ⑲ 8 ⑳ 42
 - ㉑ 63 ㉒ 48
 - ㉓ 72

おうちの方へ まちがえたもんだいは、くりかえしれんしゅうしましょう。

6 分数 ②

- 1
- ① $\frac{1}{2}$ ② $\frac{1}{4}$
 - ③ $\frac{1}{8}$ ④ $\frac{1}{3}$
- 2
- ㊦
- 3
- ① 3、3
 - ② 2、2
 - ③ 8、8

おうちの方へ もとの大きさがちがう

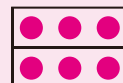
と、 $\frac{1}{2}$ や $\frac{1}{3}$ の大きさもちがいます。

1 ③ 同じ大きさに8つに分けているので、もとの大きさの $\frac{1}{8}$ です。


2 $\frac{1}{3}$ の3つ分が、もとの長さになります。

$\frac{1}{3}$ の長さは、目もり3つ分なので、もとの長さは、目もり9つ分になります。

3 ① 同じ大きさに2つに分けた1つ分は、3こです。3この2つ分は6こです。



③ 同じ大きさに3つに分けた1つ分は、8こです。8この3つ分は24こです。



新興出版社 × ちびむすドリル Special コラボ

ドリルの王様

楽しく取り組めるから長続きする！
各種検定試験、また学習指導要領にも対応！



ドリルの王様

or

教科書ぴったりにトレーニング

検索

ドリルの王様
公式サイトは
こちら



予習復習に便利な
教科書ぴったり
トレーニング
公式サイトはこちら



答え

2~4年の

ばいの計算・割合



8 何倍でしょう①

- ①赤、白、2、8、8
②式 $8 \div 2 = 4$ 答え 4倍
- ①クリップ、4、12
②式 $12 \div 4 = 3$ 答え 3倍
- ①学校から駅、3、15
②式 $15 \div 3 = 5$ 答え 5倍

おうちの方へ 「の倍は」
という2つの数りょうと倍のかん係を
みつけることがたいせつです。何倍に
なるかは、わり算を使ってもとめます。

① ② 赤の倍は白
 $2 \times \square = 8$

□をもとめる式は、 $8 \div 2$ になります。

② ② クリップの倍はえん筆
 $4 \times \square = 12$

□をもとめる式は、 $12 \div 4$ になります。

③ ② 学校から公園の倍は学校から駅
 $3 \times \square = 15$

□をもとめる式は、 $15 \div 3$ になります。

新興出版社 × ちびむすドリル Special コラボ

ドリルの王様

楽しく取り組めるから長続きする！
各種検定試験、また学習指導要領にも対応！



ドリルの王様

or

教科書ぴったりにトレーニング

検索

ドリルの王様
公式サイトは
こちら



予習復習に便利な
教科書ぴったり
トレーニング
公式サイトはこちら



答え

2~4年の

ばいの計算・割合



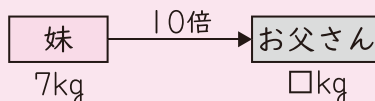
16 何倍でしょう⑨

- 1 5、2、妹、ゆい、お父さん、7
式 $5 \times 2 = 10$
 $7 \times 10 = 70$ 答え 70 kg
($7 \times (5 \times 2) = 70$ も正しい)
- 2 2、3、1回、1日、3日間、12
式 $2 \times 3 = 6$
 $12 \times 6 = 72$ 答え 72 L
($12 \times (2 \times 3) = 72$ も正しい)
- 3 式 $2 \times 4 = 8$
 $10 \times 8 = 80$ 答え 80 cm
($10 \times (2 \times 4) = 80$ も正しい)
- 4 式 $3 \times 2 = 6$
 $20 \times 6 = 120$ 答え 120 円
($20 \times (3 \times 2) = 120$ も正しい)
- 5 式 $5 \times 6 = 30$
 $30 \times 30 = 900$ 答え 900 人
($30 \times (5 \times 6) = 900$ も正しい)
- 6 式 $2 \times 10 = 20$
 $4 \times 20 = 80$ 答え 80 ページ
($4 \times (2 \times 10) = 80$ も正しい)

🏠 おうちの方へ

1 5倍の2倍だから、
 $5 \times 2 = 10$

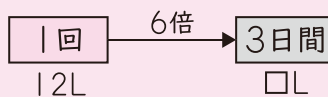
妹 の10倍は お父さん



\square をもとめる式は、 7×10 になります。

2 2倍の3倍だから、 $2 \times 3 = 6$

1回 の6倍は 3日間



\square をもとめる式は、 12×6 になります。

3 2倍 4倍



\square をもとめる式は、 10×8 になります。

4 3倍 2倍



\square をもとめる式は、 20×6 になります。

5 5倍 6倍



\square をもとめる式は、 30×30 になります。

6 2倍 10倍



\square をもとめる式は、 4×20 になります。

新興出版社 × ちびむすドリル Special コラボ

ドリルの王様

楽しく取り組めるから長続きする!
各種検定試験、また学習指導要領にも対応!



ドリルの王様

or 教科書ぴったりにトレーニング

検索

ドリルの王様
公式サイトは
こちら



予習復習に便利な
教科書ぴったりに
トレーニング
公式サイトはこちら



答え

2~4年の

ばいの計算・割合



21 割合 ④

- ① ①5、はじめ、いま、4
②式 $4 \times 5 = 20$ 答え 20 ぴき
③5
- ② 式 $10 \times 4 = 40$ 答え 40 kg
- ③ 式 $700 \times 3 = 2100$
答え 2100 円
- ④ 式 $18 \times 5 = 90$ 答え 90 cm
- ⑤ 式 $140 \times 2 = 280$ 答え 280 本

🏠 おうちの方へ 矢印の図あらわに表すことになれましょう。

- ① ② **はじめ**の5倍は **いま**
□を求める式は、 4×5 になります。
- ② **子ども**の4倍は **おとな**
□を求める式は、 10×4 になります。
- ③ **絵本**の3倍は **図かん**
□を求める式は、 700×3 になります。
- ④ **先月**の5倍は **今月**
□を求める式は、 18×5 になります。
- ⑤ **赤**の2倍は **白**
□を求める式は、 140×2 になります。



25 割合 ⑧

- ① ①式 $8 \times 8 = 64$ 答え 64 kg
②式 $64 \div 2 = 32$ 答え 32 kg
- ② ①式 $12 \times 3 = 36$ 答え 36 まい
②式 $36 \div 6 = 6$ 答え 6 まい
- ③ ①式 $500 \times 2 = 1000$
答え 1000 mL
②式 $1000 \div 5 = 200$
答え 200 mL

🏠 おうちの方へ 2つの数量と倍かんけいの関係を矢印の図に表して、かけ算を使うのか、わり算を使うのかを考えるとよいでしょう。

- ① ① **妹**の8倍は **お父さん**
□を求める式は、 8×8 になります。
② **ゆうき**の2倍は **お父さん**
 $\square \times 2 = 64$
□を求める式は、 $64 \div 2$ になります。
- ② ① **中**の3倍は **大**
□を求める式は、 12×3 になります。
② **小**の6倍は **大**
 $\square \times 6 = 36$
□を求める式は、 $36 \div 6$ になります。
- ③ ① **M**の2倍は **L**
□を求める式は、 500×2 になります。
② **S**の5倍は **L**
 $\square \times 5 = 1000$
□を求める式は、 $1000 \div 5$ になります。

新興出版社 × ちびむすドリル Special コラボ

ドリルの王様

楽しく取り組めるから長続きする！
各種検定試験、また学習指導要領にも対応！



ドリルの王様

or 教科書ぴったりにトレーニング

検索

ドリルの王様
公式サイトは
こちら



予習復習に便利な
教科書ぴったり
トレーニング
公式サイトはこちら

