



3 何分をもとめる ①

月 日 時 分～ 時 分

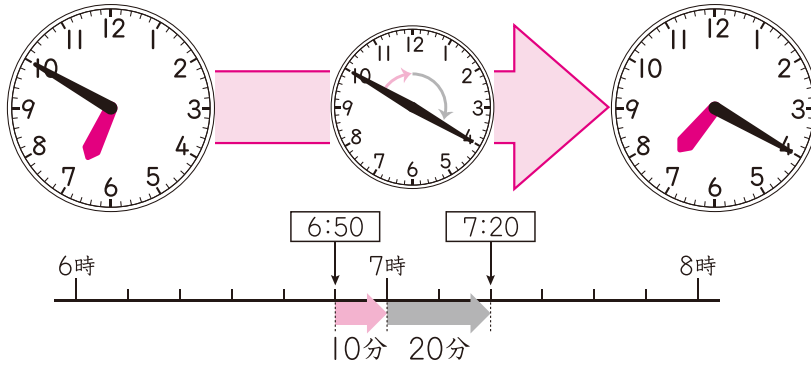
名前

点

1 左の時こくから右の時こくまでの時間は何分ですか。

□にあてはまる数をかきましょう。

30点(□1つ10)



7時までの時間と
7時からの時間に
分けて考えるといいよ。

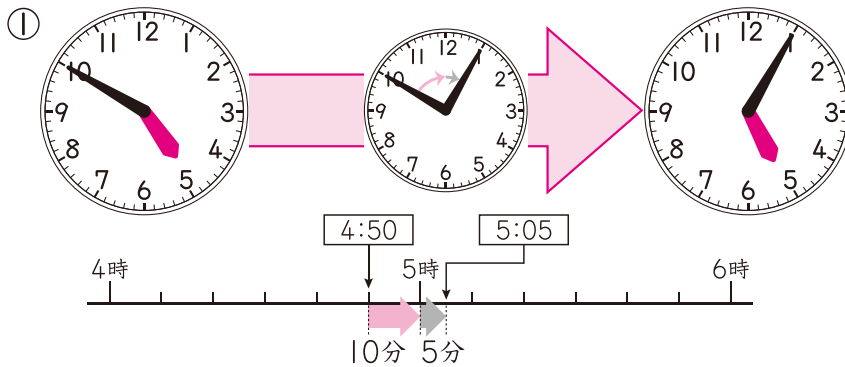


6時50分から7時までは 分、7時から7時20分までは 分。

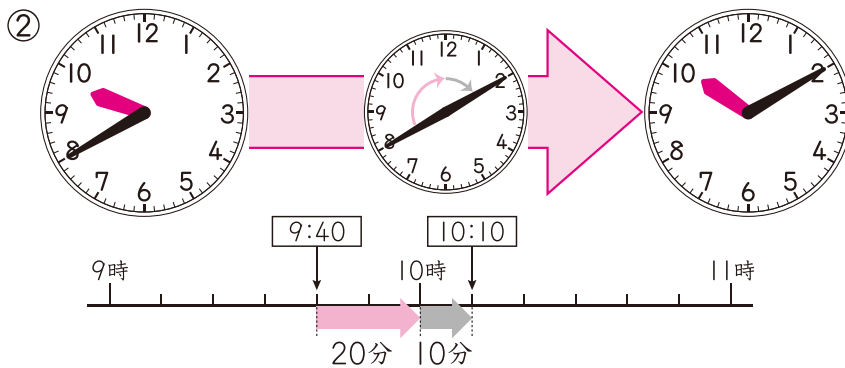
あわせて 分です。

2 左の時こくから右の時こくまでの時間は何分ですか。

20点(□1つ10)



()



()

新興出版社 × ちびむすドリル Special コラボ

ドリルの王様

楽しく取り組めるから長続きする!
各種検定試験、また学習指導要領にも対応!



ドリルの王様

or

教科書ぴったりトレーニング

検索

ドリルの王様
公式サイトは
こちら



予習復習に便利な
教科書ぴったり
トレーニング
公式サイトはこちら





時間のちがい ①

月 日 時 分～ 時 分

名前

点

1 | 時間 20 分と 30 分のちがいは、何分ですか。

にあてはまる数をかきましょう。

10点(□1つ5)



| 時間 20 分は 分。

| 時間 20 分を 80 分になおして考えるよ。

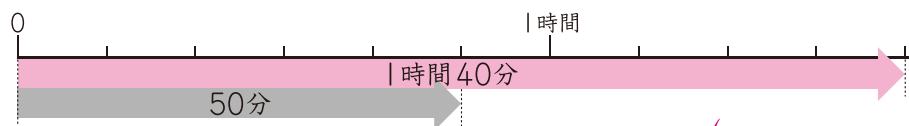


80 分から 30 分をひいて、 分です。

2 つぎ 次の時間のちがいを求めましょう。

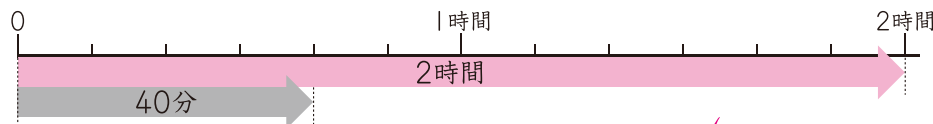
30点(1つ10)

① | 時間 40 分と 50 分のちがい



()

② 2 時間と 40 分のちがい



()

③ 2 時間 30 分と 50 分のちがい



()



2 時間 30 分を | 時間 90 分と
考えよう。

90 分から 50 分をひけば
いいですね。



新興出版社 × ちびむすドリル Special コラボ

ドリルの王様

楽しく取り組めるから長続きする!
各種検定試験、また学習指導要領にも対応!



ドリルの王様

or

教科書ぴったりトレーニング

検索

ドリルの王様
公式サイトは
こちら



予習復習に便利な
教科書ぴったり
トレーニング
公式サイトはこちら





何時間何分をもとめる ①

月 日 時 分～ 時 分

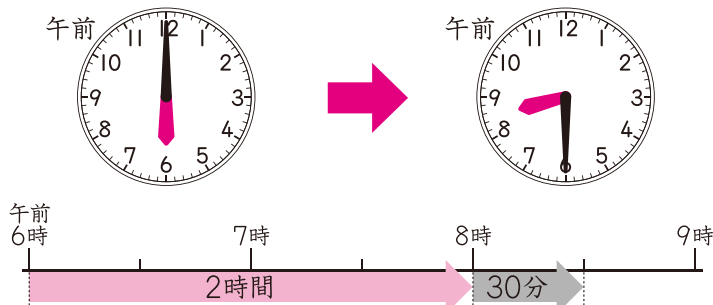
名前

点

① 左の時こくから右の時こくまでの時間は何時間何分ですか。

□にあてはまる数をかきましょう。

20点(□1つ5)



6時から8時までと、
8時から8時30分までに
分けて考えているね。



午前6時から午前8時までは 時間。

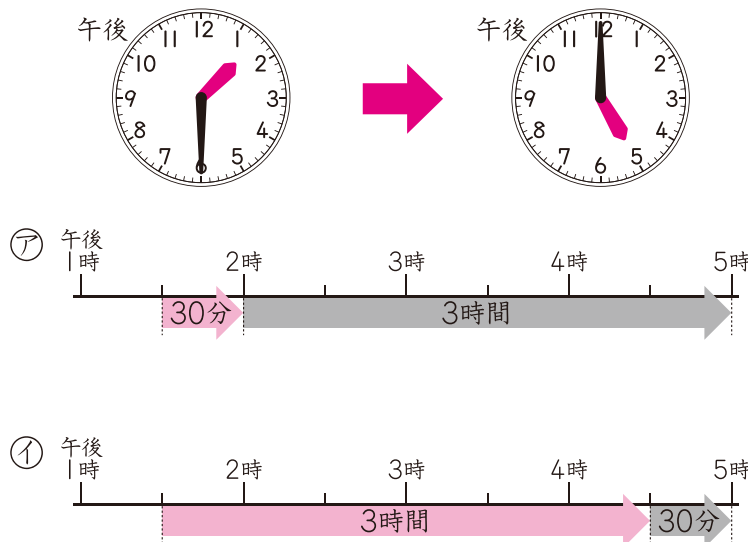
午前8時から午前8時30分までは 分。

あわせて 時間 分です。

② 左の時こくから右の時こくまでの時間は何時間何分ですか。

㊦、㊧の2通りの考え方もとめましょう。

30点(1つ15)



㊦は2時までと、2時からに
分けて考えるしかた、
㊧は4時30分までと、
4時30分からに
分けて考えるしかただよ。



新興出版社 × ちびむすドリル Special コラボ

ドリルの王様

楽しく取り組めるから長続きする!
各種検定試験、また学習指導要領にも対応!



ドリルの王様

or

教科書ぴったりトレーニング

検索

ドリルの王様
公式サイトは
こちら



予習復習に便利な
教科書ぴったり
トレーニング
公式サイトはこちら





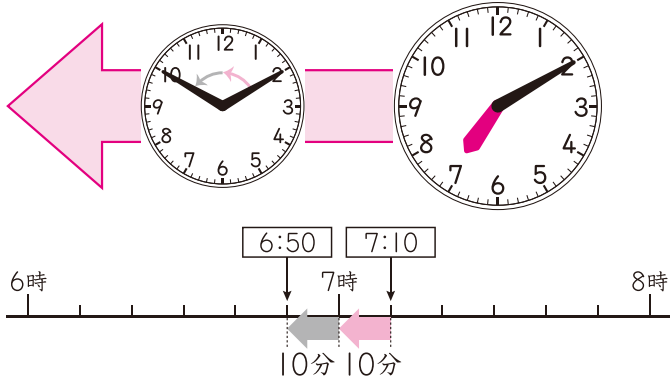
何分か前の時こく ①

月	日	時	分	～	時	分
名前				点		

1 7時10分の20分前の時こくは何時何分ですか。

□にあてはまる数をかきましょう。

30点(□1つ10)



20分を10分と10分に分けて考えよう。

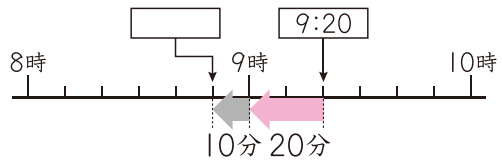



7時10分から□10分前が7時、7時からさらに□10分前は、6時□50分です。

2 つぎ 次の時こくは何時何分ですか。

20点(1つ10)

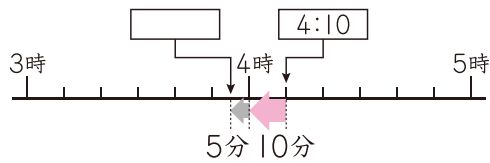

① 9時20分の30分前の時こく



20分前が9時で、30分は20分と10分だから...

()

② 4時10分の15分前の時こく



()



ドリルの王様
公式サイトは
こちら

予習復習に便利な
教科書ぴったり
トレーニング
公式サイトはこちら



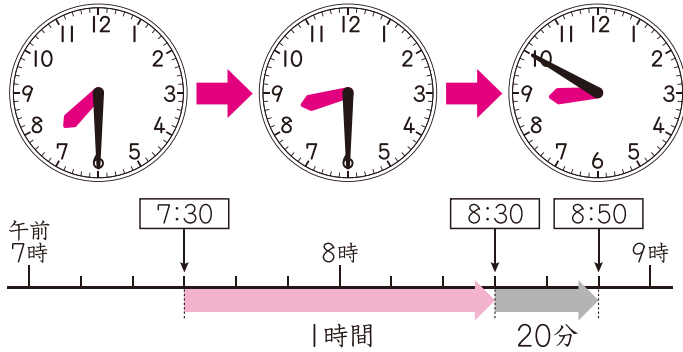
何時間何分がたった時こく①

月	日	時	分~	時	分
名前				点	

① 午前7時30分から1時間20分たった時こくをもとめます。

□にあてはまる数をかきましょう。

30点(□1つ6)



1時間20分たった時こくをもとめるには、まず1時間たった時こくをもとめてから、20分たった時こくを考えるといいね。



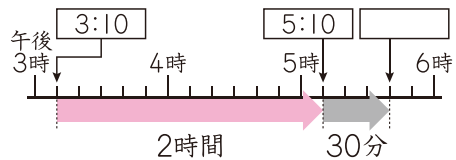
1時間たった時こくは午前 時 分、

さらに 分たった時こくは午前 時 分。

② 次の時こくをもとめましょう。

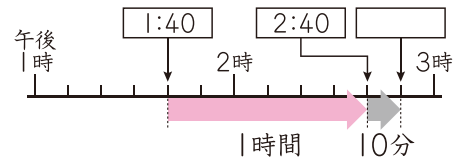
20点(1つ10)

① 午後3時10分から2時間30分たった時こく



()

② 午後1時40分から1時間10分たった時こく



()





時間のかん係 ①

月 日 時 分～ 時 分

名前

点

1 □にあてはまる数をかきましょう。

40点(1つ2)

① 80 ^{びょう}秒 = □ 分 □ 秒

② 75 秒 = □ 分 □ 秒

③ 90 秒 = □ 分 □ 秒

④ 115 秒 = □ 分 □ 秒

⑤ 125 秒 = □ 分 □ 秒

⑥ 1分5秒 = □ 秒

1分=60秒
1時間=60分
だったね。

⑦ 1分10秒 = □ 秒

⑧ 1分45秒 = □ 秒

⑨ 2分 = □ 秒

⑩ 1分50秒 = □ 秒

⑪ 70分 = □ 時間 □ 分

⑫ 85分 = □ 時間 □ 分

⑬ 100分 = □ 時間 □ 分

⑭ 120分 = □ 時間

⑮ 150分 = □ 時間 □ 分

⑯ 1時間20分 = □ 分

⑰ 1時間35分 = □ 分

⑱ 1時間40分 = □ 分

⑲ 2時間10分 = □ 分

⑳ 3時間 = □ 分

新興出版社 × ちびむすドリル Special コラボ

ドリルの王様

楽しく取り組めるから長続きする!
各種検定試験、また学習指導要領にも対応!



ドリルの王様

or

教科書ぴったりにトレーニング

検索

ドリルの王様
公式サイトは
こちら



予習復習に便利な
教科書ぴったり
トレーニング
公式サイトはこちら

