



# 3 何分をもとめる ①

月 日 時 分 ~ 時 分

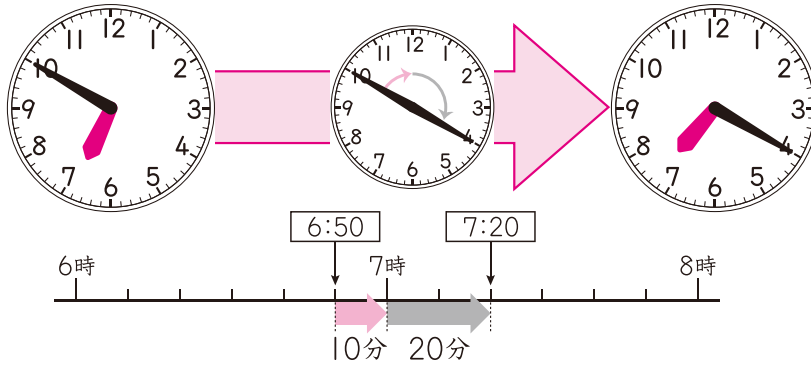
名前

点

1 左の時こくから右の時こくまでの時間は何分ですか。

□にあてはまる数をかきましょう。

30点(□1つ10)



7時までの時間と  
7時からの時間に  
分けて考えるといいよ。

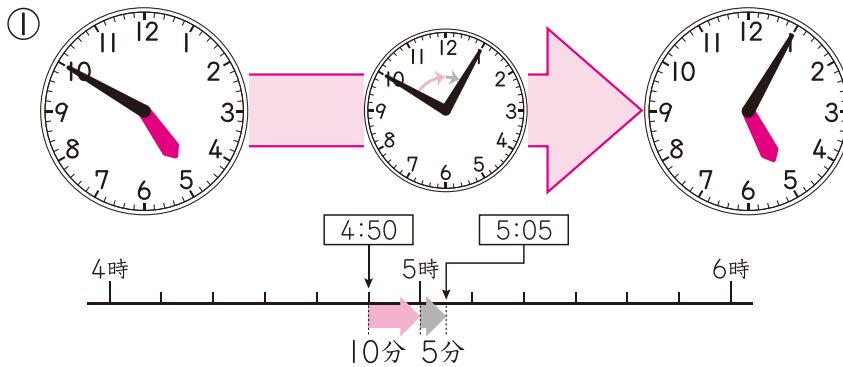


6時50分から7時までは  分、7時から7時20分までは  分。

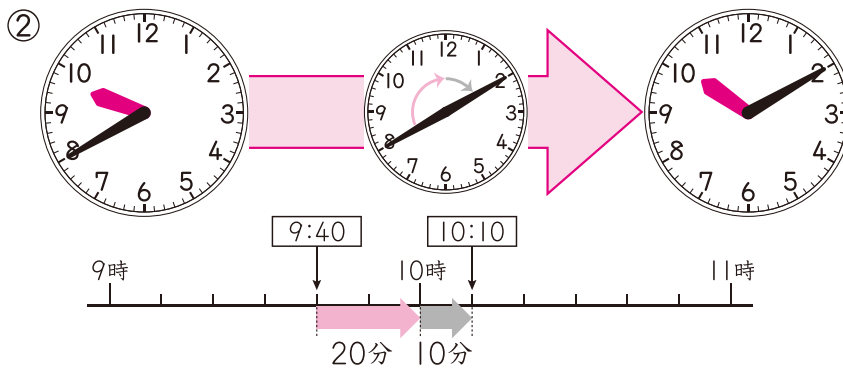
あわせて  分です。

2 左の時こくから右の時こくまでの時間は何分ですか。

20点(1つ10)



( )



( )

新興出版社 × ちびむすドリル Special コラボ

# ドリルの王様

楽しく取り組めるから長続きする!  
各種検定試験、また学習指導要領にも対応!



ドリルの王様

or

教科書ぴったりにトレーニング

検索

ドリルの王様  
公式サイトは  
こちら



予習復習に便利な  
教科書ぴったりに  
トレーニング  
公式サイトはこちら

