



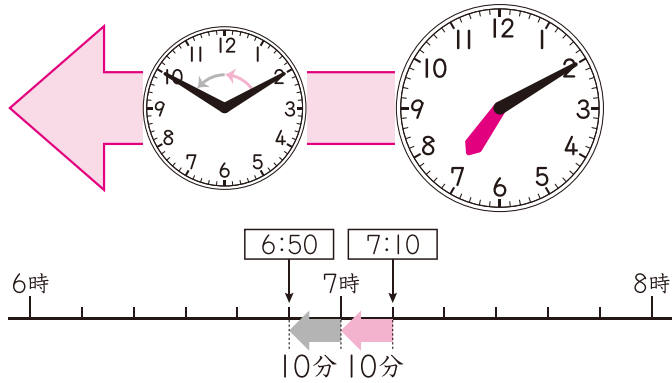
# 何分か前の時こく ①

月	日	時	分~	時	分
名前				点	

1 7時10分の20分前の時こくは何時何分ですか。

□にあてはまる数をかきましょう。

30点(□1つ10)



20分を10分と10分に分けて考えよう。

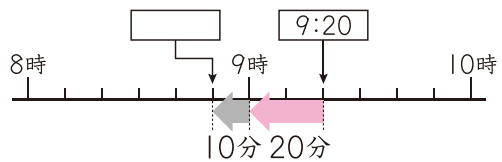
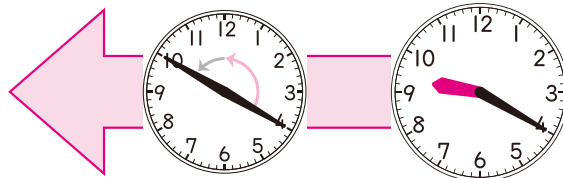


7時10分から□10分前が7時、7時からさらに□10分前は、6時□50分です。

2 つぎ 次の時こくは何時何分ですか。

20点(1つ10)

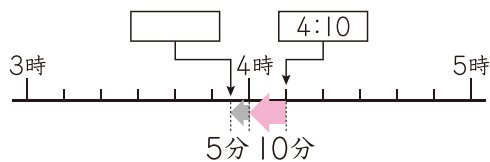

① 9時20分の30分前の時こく



20分前が9時で、30分は20分と10分だから...

( )

② 4時10分の15分前の時こく



( )



ドリルの王様  
公式サイトは  
こちら

予習復習に便利な  
教科書ぴったり  
トレーニング  
公式サイトはこちら