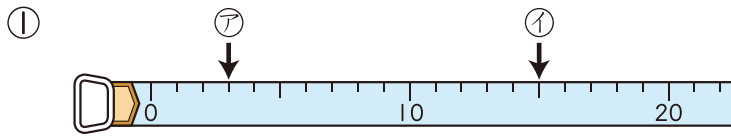




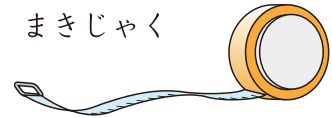
1 まきじゃくの↓の目もりをよみましょう。

30点(1つ3)

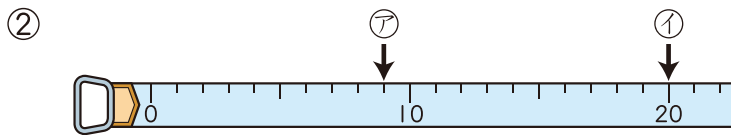


ア ( 3 cm )      ① (      cm )

まきじゃく

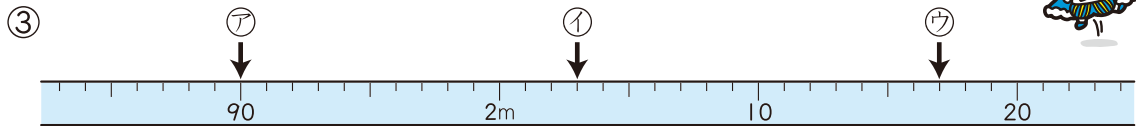


長いものをはかる  
ときには、まきじゃく  
を使うとべんりだよ。

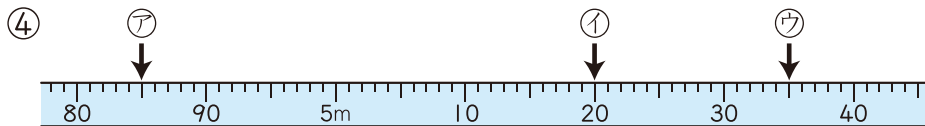


ア (      cm )      ① (      cm )

まきじゃくを使う  
ときは、  
0の目もりのいちに  
注意しようね。



ア ( 1 m 90 cm )      ① (      m      cm )      ウ (      m      cm )



ア (      m      cm )      ① (      m      cm )      ウ (      m      cm )

2 つぎ 次の□にあてはまることばや数をかきましょう。

4点(1つ2)

① 道にそってはかった長さを **道のり** といいます。

② 長い長さを表す長さのたんいに **km** があります。

→キロメートルとよみます。

1 km = **1000** m です。

