



割合を表す小数 ①

月 日 時 分～ 時 分

名前

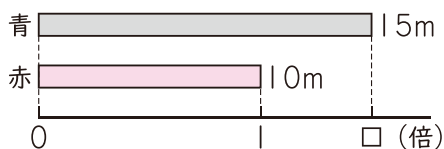
点

① 右の表は、赤、青、白の3本のリボンの長さを表しています。

40点(式10・答え10)

リボンの長さ	
赤	10m
青	15m
白	8m

① 青のリボンの長さは、赤のリボンの長さの何倍になっていますか。



赤の□倍は青

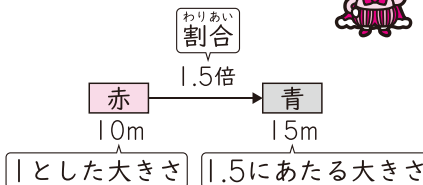


10mの□倍は15m
 $10 \times \square = 15$

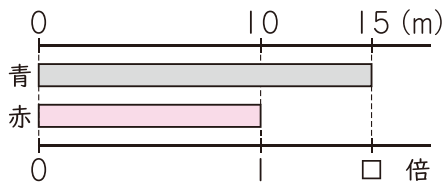
10×□=15だから、
□を求める式は……

式 $15 \div 10 =$

答え ()



1.5のように、何倍にあたるかを表した数を、割合といいます。



左のような図でも表せるね。



② 白のリボンの長さは、赤のリボンの長さの何倍になっていますか。

式

赤の□倍は白



答え ()

新興出版社 × ちびむすドリル Special コラボ

ドリルの王様

楽しく取り組めるから長続きする！
各種検定試験、また学習指導要領にも対応！



ドリルの王様

or

教科書ぴったりトレーニング

検索

ドリルの王様
公式サイトは
こちら



予習復習に便利な
教科書ぴったり
トレーニング
公式サイトはこちら

