



割合を表す分数 ①

月 日 時 分～ 時 分

名前

点

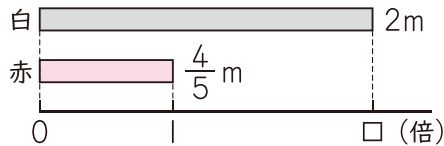
① 右の表は、白、赤、青の3本のテープの長さを表しています。

40点(式10・答え10)

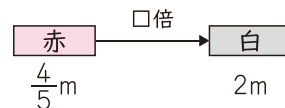
テープの長さ

白	2m
赤	$\frac{4}{5}$ m
青	$\frac{3}{4}$ m

① 白のテープの長さは、赤のテープの長さの何倍ですか。分数で表しましょう。



赤の□倍は白



$$\frac{4}{5} \text{ m の } \square \text{ 倍は } 2 \text{ m}$$

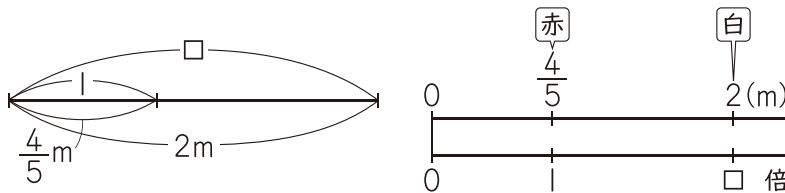
$$\frac{4}{5} \times \square = 2$$

$\frac{4}{5} \times \square = 2$ だから、
□を求める式は……



式 $2 \div \frac{4}{5} =$

答え ()



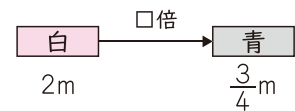
左のような図でも表せるね。



② 青のテープの長さは、白のテープの長さの何倍ですか。分数で表しましょう。

式

白の□倍は青



答え ()

新興出版社 × ちびむすドリル Special コラボ

ドリルの王様

楽しく取り組めるから長続きする！
各種検定試験、また学習指導要領にも対応！



ドリルの王様

or 教科書ぴったりトレーニング

検索

ドリルの王様
公式サイトは
こちら



予習復習に便利な
教科書ぴったり
トレーニング
公式サイトはこちら

