

3

いくつと いくつ? ①

が つ	なまえ
に ち	




おうちのかたへ

数がどのように構成されているかをとらえるための練習です。「3」や「4」がどんな数に分解できるのかを認識させましょう。

やったね
シール

① 3は いくつと いくつに わけられますか。

 に すうじを かきましょう。



新興出版社 × ちびむすドリル **スペシャルコラボ**

おうちレッスン

小学校入学前に必要な資質・能力が身につく構成!
少しだけ「できる子」になるための要素をプラス!



幼児向けドリル

おうちレッスン

or

教科書ぴったりにトレーニング

検索

おうちレッスン
公式サイトは
こちら



予習復習に便利な
教科書ぴったり
トレーニング
公式サイトはこちら



12 たしざん①

が つ	なまえ
に ち	

おうちのかたへ
「あわせるといくつになるか」という、たし算を“式”で表す練習です。「+」「=」の記号の読み方と意味を教えてください。

やったね
シール

① たしざんを しましょう。

と に すうじを かきましょう。

あわせて

2 と 2 で 4

しき 2 たす + 2 は = 4

あわせて

3 と 4 で 7

しき 3 たす + 4 は = 7

新興出版社 × ちびむすドリル **スペシャルコラボ**

おうちレッスン

小学校入学前に必要な資質・能力が身につく構成！
少しだけ「できる子」になるための要素をプラス！



幼児向けドリル

おうちレッスン

or

教科書ぴったりにトレーニング

検索

おうちレッスン
公式サイトは
こちら



予習復習に便利な
教科書ぴったり
トレーニング
公式サイトはこちら



17

のこりは いくつ? ①

が つ	なまえ
に ち	

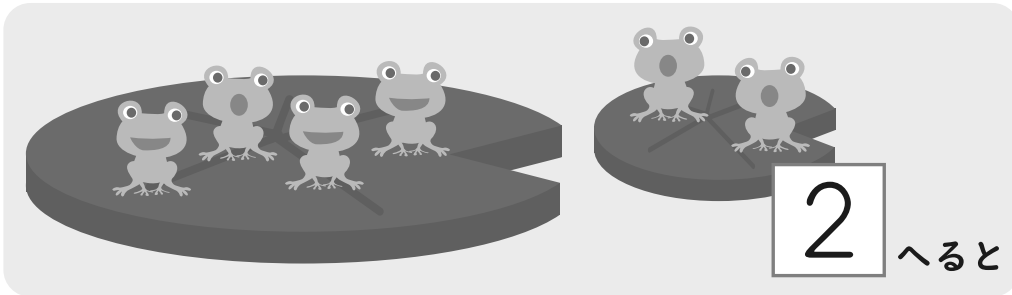
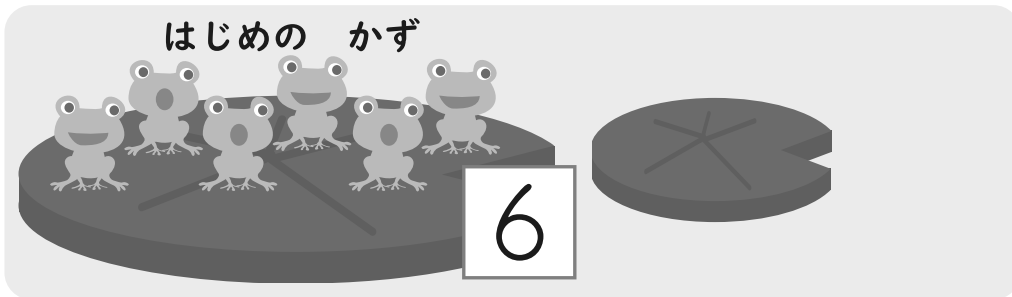
おうちのかたへ

「のこりは いくつ?」は、ひき算の意味を、視覚的に認識させるための練習です。「はじめのかず」と「へる」の意味を理解させましょう。

やったね
シール

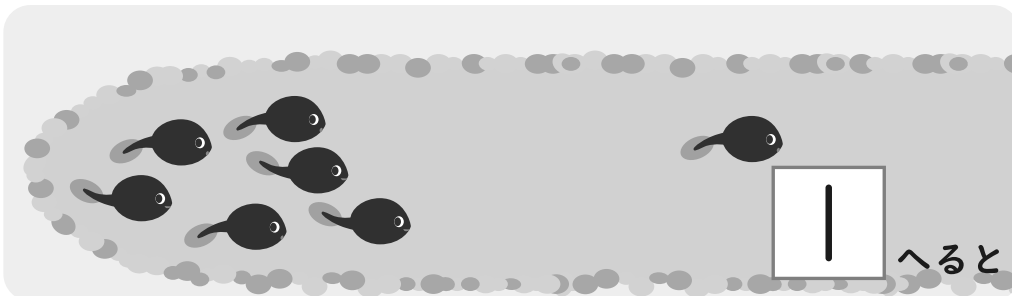
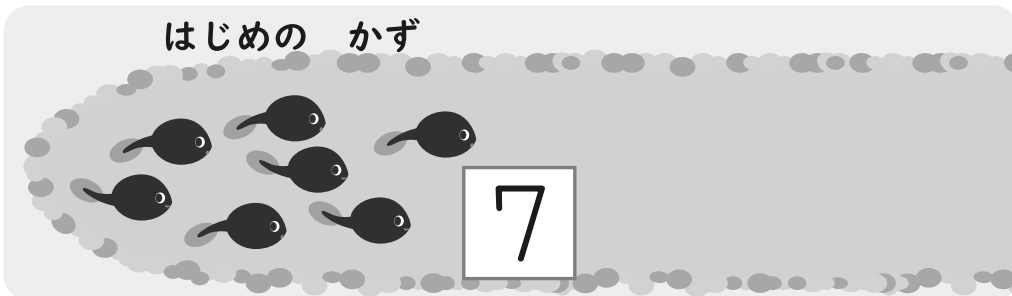
① のこりは いくつに なりますか。

 に すうじを かきましょう。



のこりは

4



のこりは

6

新興出版社 × ちびむすドリル **スペシャルコラボ**

おうちレッスン

小学校入学前に必要な資質・能力が身につく構成!
少しだけ「できる子」になるための要素をプラス!



幼児向けドリル

おうちレッスン

or

教科書ぴったりトレーニング

検索

おうちレッスン
公式サイトは
こちら



予習復習に便利な
教科書ぴったり
トレーニング
公式サイトはこちら



19

ひきざん①

が つ	なまえ
に ち	

おうちのかたへ

「ひく(たべる・とるなど)とのこりはいくつになるか」という、ひき算を“式”で表す練習です。「-」「=」の記号の読み方と意味を教えてあげてください。

やったね
シール

① ひきざんを しましょう。


 と

 に すうじを かきましょう。

はじめの かず



6



のこりは

2

 たべると

4

しき

6

 ひく

2


 は

4

はじめの かず



7



のこりは

1

 たべると

6

しき

7

 ひく

1

 は

6

新興出版社 × ちびむすドリル スペシャルコラボ

おうちレッスン

小学校入学前に必要な資質・能力が身につく構成!
少しだけ「できる子」になるための要素をプラス!



幼児向けドリル

おうちレッスン

or

教科書ぴったりにトレーニング

検索

おうちレッスン
公式サイトは
こちら



予習復習に便利な
教科書ぴったり
トレーニング
公式サイトはこちら



が つ	なまえ
に ち	

おうちのかたへ

お金を使ったひき算の問題です。図を見て考えるとよいでしょう。また、おもちゃのお金で、お店屋さんごっこをするのもよいでしょう。

やったね
シール

① かいものを しました。のこりは なんえんですか。

に すうじを かきましょう。

20えん もって います。



10えんの あめを かうと



のこりは なんえん?

のこりは **10** えん

30えん もって います。



10えんの チョコを かうと



のこりは なんえん?

のこりは **20** えん

