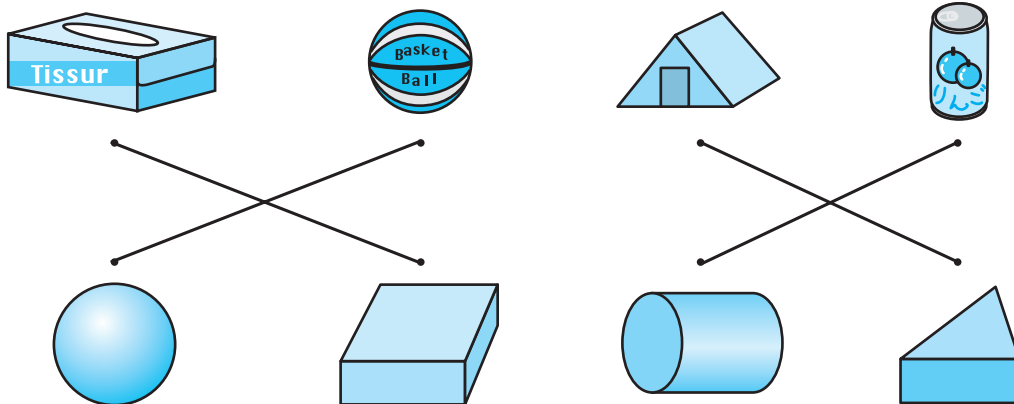
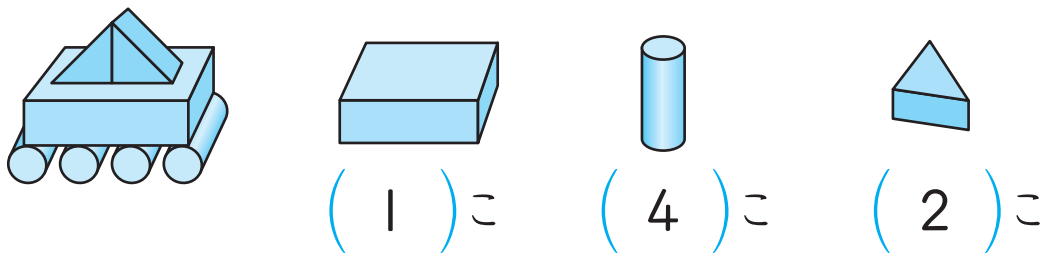


1 おなじ かたちを —— で おすびしましょう。 12てん(1つ3)

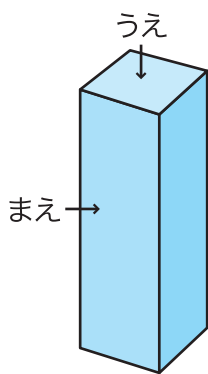


2 つみきを つかって のりものを つくりました。つ  
かった つみきの かずを かきましょう。 18てん(1つ6)



3 したの かたちを うえと まえから みた かたち  
は それぞれ どれでしょう。○を つけましょう。

16てん(1つ8)



うえから みた かたち				
	( )	(○)	( )	( )
まえから みた かたち				
	( )	( )	( )	(○)

