

# 8 しあげのテスト

月 日

名まえ

てん点

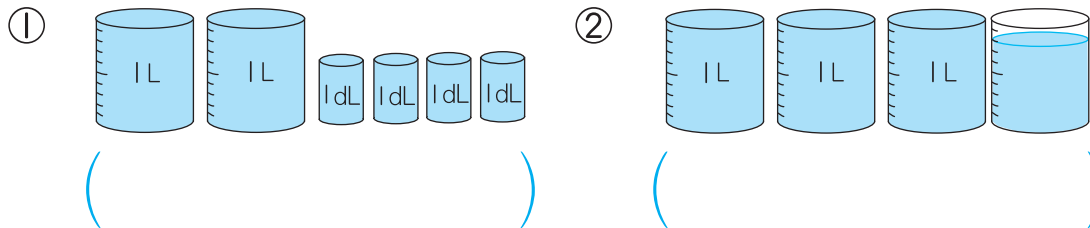
1 つぎの <sup>けいさん</sup>計算を しましょう。

20点(1つ5)

- ①  $8\text{ cm } 9\text{ mm} - 6\text{ cm}$
- ②  $1\text{ m } 30\text{ cm} + 20\text{ cm}$
- ③  $2\text{ L } 5\text{ dL} + 7\text{ dL}$
- ④  $1\text{ L } 3\text{ dL} - 8\text{ dL}$

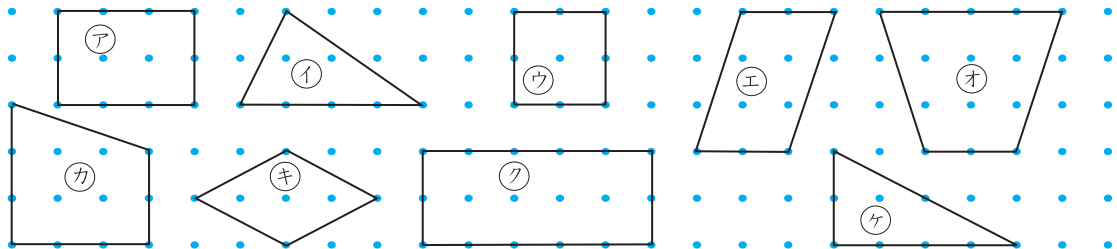
2 水の かさは なんL なんdLでしょう。

10点(1つ5)



3 <sup>ちやうほうけい</sup>長方形, <sup>せいほうけい</sup>正方形, <sup>ちよっかくさんかくけい</sup>直角三角形は どれでしょう。

15点(1つ5)

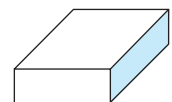


長方形 ( ) 正方形 ( ) 直角三角形 ( )

4 右の はこの <sup>かたち</sup>形を 見て こたえましょう。

15点(1つ5)

- ① <sup>めん</sup>面の <sup>かず</sup>数は いくつでしょう。 ( )
- ② <sup>へん</sup>辺の <sup>かず</sup>数は いくつでしょう。 ( )
- ③ <sup>てん</sup>ちょう点の <sup>かず</sup>数は いくつでしょう。 ( )



ドリルの王様 大特集

新興出版社 モニブラ

or

ドリルの王様

検索

新興出版社の  
色々な商品を  
無料で試せる  
お得なモニターに  
ついてはこちら



ドリルの王様  
公式サイトは  
こちら



苦手を克服! 集中特訓ドリルに挑戦しよう!

新興出版社 ちびむすドリル 新集 ちびむすドリル 新興出版社