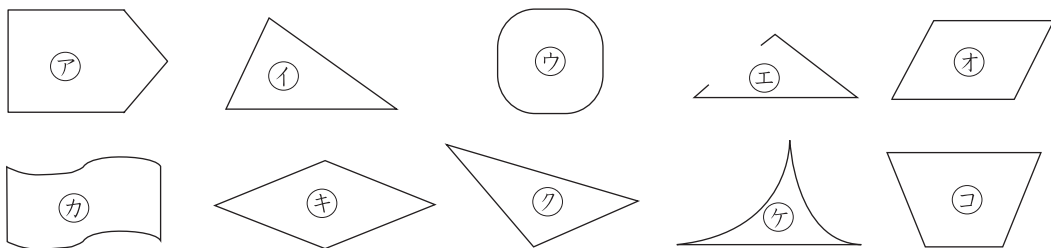


1 <sup>さんかくけい</sup> 三角形や <sup>しかくけい</sup> 四角形を ぜんぶ みつけて、それぞれ きごうで ください。

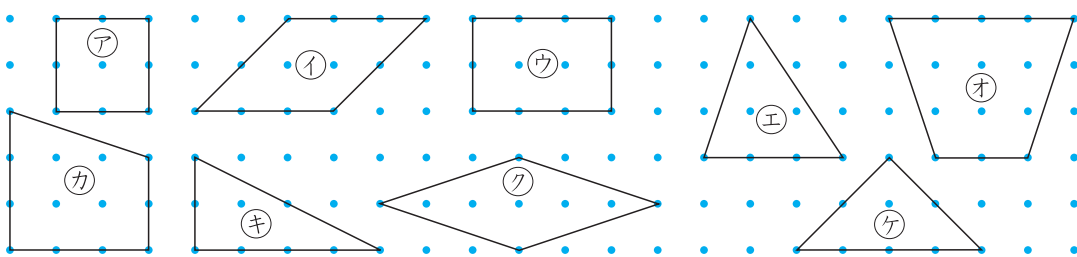
10点(1つ5)



三角形 ( イ, ク ) 四角形 ( オ, キ, コ )

2 <sup>ちやうほうけい</sup> 長方形, <sup>せいほうけい</sup> 正方形, <sup>ちやうかくさんかくけい</sup> 直角三角形は どれでしょう。

15点(1つ5)




長方形 ( ウ ) 正方形 ( ア ) 直角三角形 ( キ, ケ )

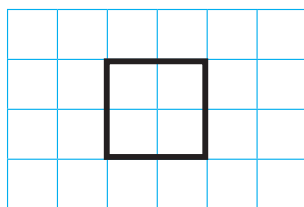
3 つぎの 形を 1つずつ かきましょう。

15点(1つ5)

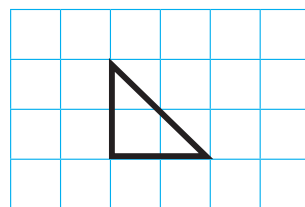
- ① 長方形      ② 正方形      ③ 直角三角形



れい



れい



れい

