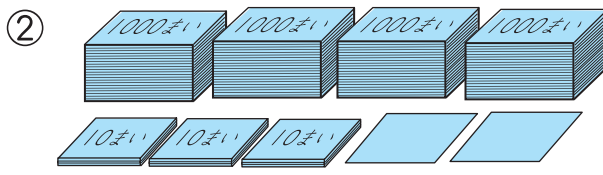



1 えを見て、^{かず}数を かきましょう。

10点(1つ5)



(584)本

(4032)まい

2 つぎの 数を かきましょう。

25点(1つ5)

① 100を 10こ あつめた 数

(1000)

② 100を 4こ, 10を 2こ あわせた 数

(420)

③ 1000を 10こ あつめた 数

(10000)

④ 1000を 7こ, 100を 3こ, 10を 2こ, 1を 9こ
あわせた 数

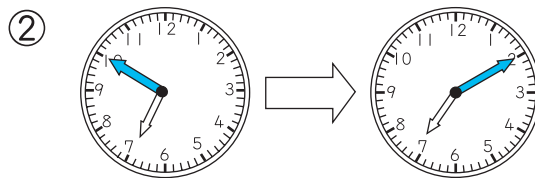
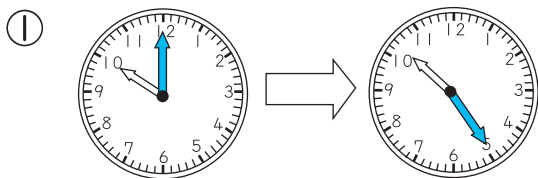
(7329)

⑤ 千の くらいが 8, 百の くらいが 6, 十の くらいが 0,
一の くらいが 4の 数

(8604)

3 左の 時^じこくから 右の 時^じこくまでの 時間^{じかん}を こたえましょ
う。

10点(1つ5)



(25分)

(20分)

