

# 7 まとめのテスト

月 日

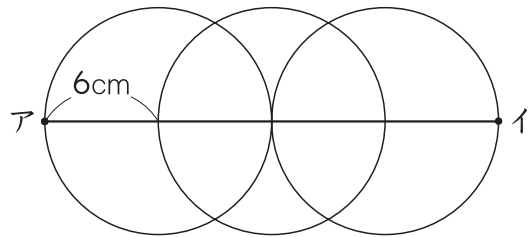
名前

点

1 つぎの長さをもとめましょう。

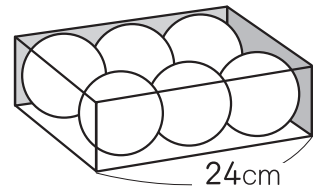
20点(1つ10)

- ① 半径が6 cm の円をつかって、  
右のような形をかきました。  
点アから点イまでの長さをもとめましょう。



( )

- ② 右のように、はこにボールがきちんとはいっています。  
このボールの半径をもとめましょう。

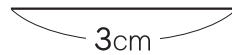
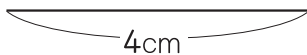


( )

2 じょうぎとコンパスをつかって、つぎの三角形をかきましょう。

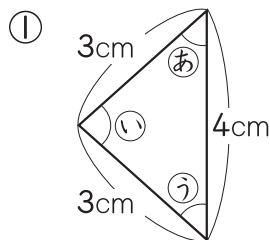
20点(1つ10)

- ① 辺の長さが4 cm, 6 cm, 6 cm の二等辺三角形  
② 辺の長さが3 cm の正三角形

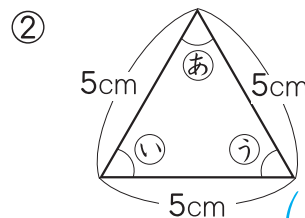


3 ① あのと角と同じ大きさの角はどれでしょう。

20点(1つ10)



( )



( )

ドリルの王様 大特集

新興出版社 モニプラ

or

ドリルの王様

検索

新興出版社の  
色々な商品を  
無料で試せる  
お得なモニターに  
ついてはこちら



ドリルの王様  
公式サイトは  
こちら



苦手を克服! 集中特訓ドリルに挑戦しよう!

新興出版社 啓林館  
ちびむすドリル × 新興出版社