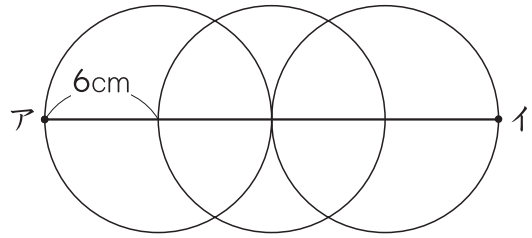


1 つぎの長さをもとめましょう。

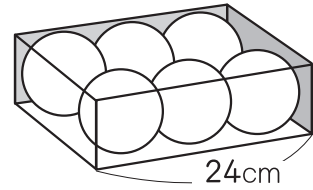
20点(1つ10)

- ① 半径が6 cmの円をつかって、
右のような形をかきました。
点アから点イまでの長さをもとめましょう。



(24 cm)

- ② 右のように、はこにボールがきちんとはいっています。
このボールの半径をもとめましょう。

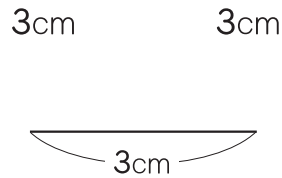
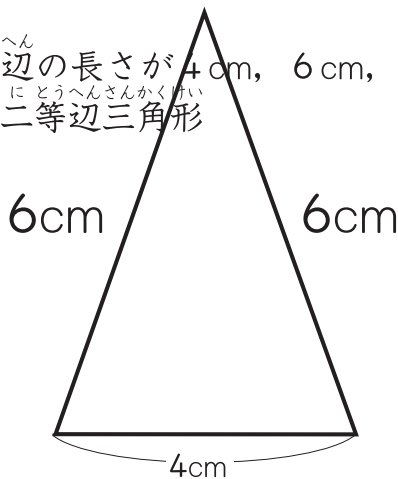


(4 cm)

2 じょうぎとコンパスをつかって、つぎの三角形をかきましょう。

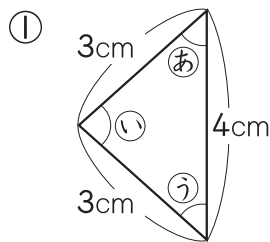
20点(1つ10)

- ① 辺の長さが4 cm, 6 cm, 6 cm の二等辺三角形
② 辺の長さが3 cmの正三角形

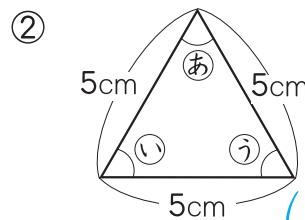


3 ① あのと角と同じ大きさの角はどれでしょう。

20点(1つ10)



(う)



(いとう)

