

# 1

## 日本のすがたを知ろう

月 日 時 分 ~ 時 分

名前 \_\_\_\_\_ / 8

日本のまわりの海と4つの大きな島の名前を□の中に書き、4つの大きな島にそれぞれ好きな色をぬりましょう。

冬の流氷が有名です。  
かい 海

4つの島の中で最も北にある島です。  
□

日本列島とユーラシア大陸の間にあります。  
海

日本で最も大きな島です。  
□

4つの島のうち南西のはしにある島です。  
□

世界でいちばん大きな海です。  
よう 洋

ユーラシア大陸と南西諸島に囲まれた海です。  
海

4つの島の中で最も小さい島です。  
□

日本は、南北に細長〜い国です。

### ドリルの王様大特集

新興出版社 モニプラ or ドリルの王様 検索

新興出版社の  
色々な商品を  
無料で試せる  
お得なモニターに  
ついてはこちら



ドリルの王様  
公式サイトは  
こちら



苦手を克服! 集中特訓ドリルに挑戦しよう!

新興出版社 啓林館  
ちびむすドリル コラボ企画

SHINKO  
ちびむすドリル X 新興出版社

8つの地方名を□の中に書き、それぞれの地方に好きな色をぬりましょう。

ちほうめい ちほう

日本でもっとも北にある地方です。

ちほう 地方

ほんしゅう ちゅうおうぶ いち ほんしゅう ちゅうおうぶ いち

本州の中央部に位置します。

地方

ほんしゅう ぼくとうぶ いち ほんしゅう ぼくとうぶ いち

本州の北東部に位置します。

ちほう 地方

にし

本州の最も西に位置します。

地方

日本のおおむね中央にあたる地方です。

地方

かつてみやこがおかかれていました。

地方

けん な た

4つの県から成り立つ地方です。

地方

なんせい

日本の南西に位置します。

地方

ドリルの王様大特集

新興出版社 モニブラ or ドリルの王様 検索

新興出版社の  
色々な商品を  
無料で試せる  
お得なモニターに  
ついてはこちら



ドリルの王様  
公式サイトは  
こちら



苦手を克服! 集中特訓ドリルに挑戦しよう!

新興出版社 ちびむすドリル × 新興出版社

昔から作られてきたものやおまつりなどにも、昔の国の名前がついているものがたくさんあります。

次の①~⑧はどこの都道府県のものでしょうか。右の県名と——で結びましよう。

- ①阿波おどり
- ②加賀友禅
- ③佐渡おけさ
- ④三州がわら
- ⑤丹後ちりめん
- ⑥備前焼
- ⑦美濃和紙
- ⑧琉球びんがた

- ・愛知県
- ・石川県
- ・岡山県
- ・沖縄県
- ・岐阜県
- ・京都府
- ・徳島県
- ・新潟県



ドリルの王様大特集

新興出版社 モニプラ or ドリルの王様 検索

新興出版社の  
色々な商品を  
無料で試せる  
お得なモニターに  
ついてはこちら



ドリルの王様  
公式サイトは  
こちら



集中特訓ドリルに挑戦しよう! ちびむすドリル × 新興出版社

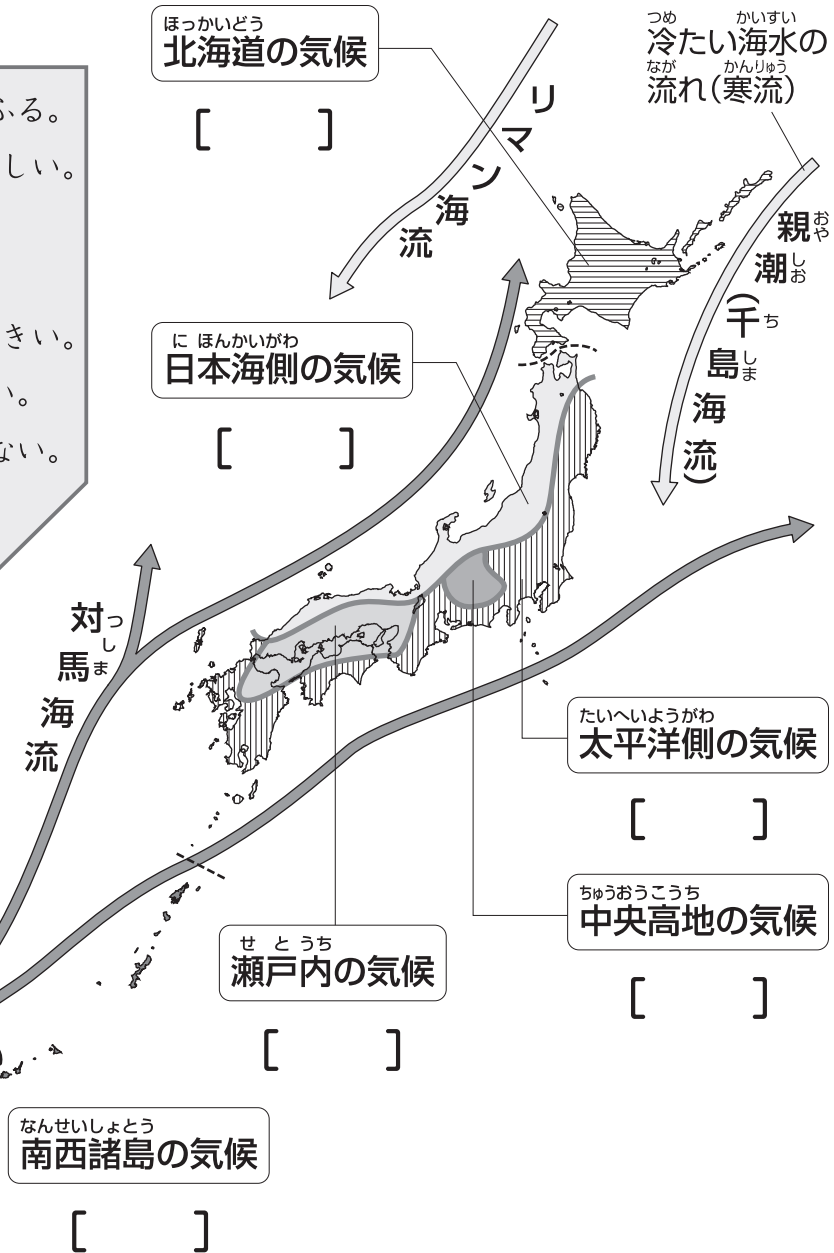
日本は、国土が南北に長く、海流(海水の流れ)や季節風(季節によって決まった方向にふく風)のえいきょうで、6つの気候区に分けることができます。

地図中の□の気候区の特ちょうを□から選び、[ ]にア~カの記号を書きましょう。

- ア 冬にたくさんの雪がふる。
- イ 冬が長く寒さはきびしい。梅雨がない。
- ウ 冬でもあたたかい。
- エ 冬と夏の気温差が大きい。年間を通して雨は少ない。
- オ 一年を通して雨が少ない。
- カ 冬は晴れの日が多く、夏に雨が多い。



あたたかい海水の流れ(暖流)  
くろしお 黒潮(日本海流)



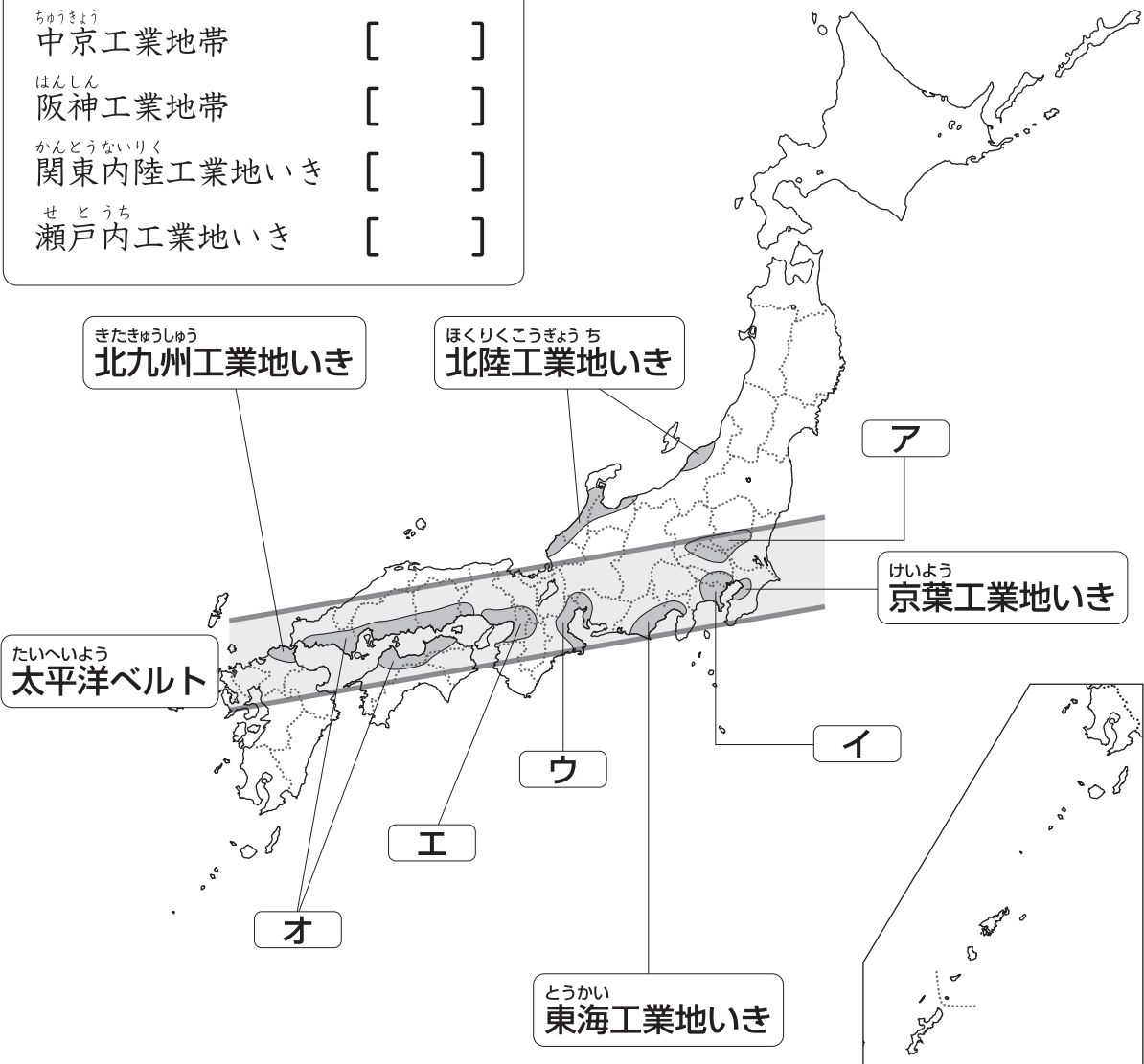
工業が発達している工業地帯・工業地いきは、太平洋側に集まっています。  
これは、原料の輸入や製品の輸出に便利だからです。

□の中の工業地帯・工業地いきは、地図中のどこにあるでしょう。ア～オから選び、[ ]に記号を書きましょう。



工業地域・地いき → 工場など多くの工業施設が集まっているところをいいます。

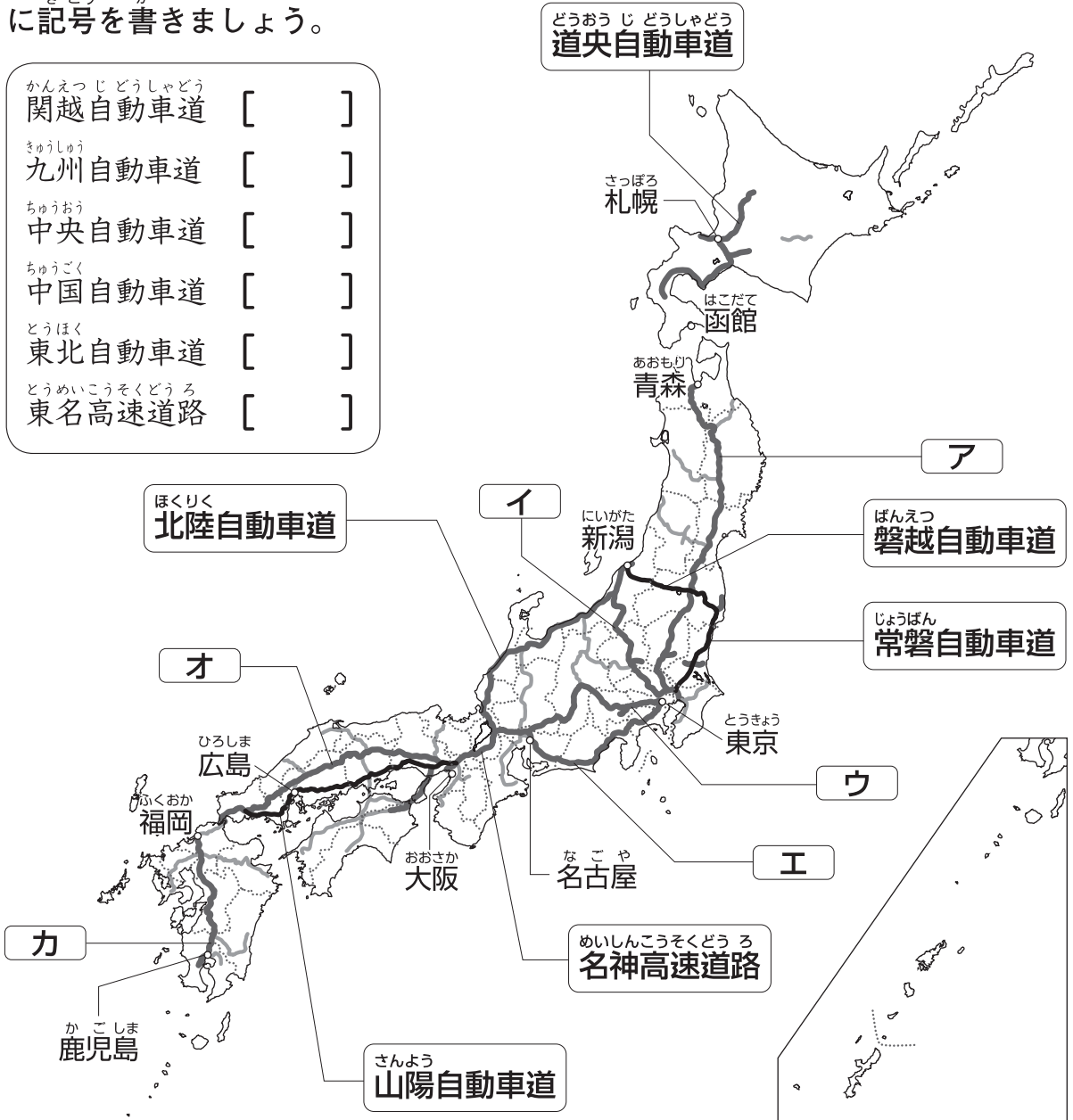
- |                       |     |
|-----------------------|-----|
| けいひん<br>京浜工業地帯        | [ ] |
| ちゅうきょう<br>中京工業地帯      | [ ] |
| はんしん<br>阪神工業地帯        | [ ] |
| かんとうないりく<br>関東内陸工業地いき | [ ] |
| せとうち<br>瀬戸内工業地いき      | [ ] |



高速道路ができるまでは、東京から大阪まで、車で15時間ぐらいかかっていましたが、今では、およそ7時間で行けるようになりました。

□の中の高速道路は、地図中のどこにあるでしょう。ア~カから選び、[ ]に記号を書きましょう。

- かんえつじどうしゃどう 関越自動車道 [ ]
- きゅうしゅう 九州自動車道 [ ]
- ちゅうおう 中央自動車道 [ ]
- ちゅうごく 中国自動車道 [ ]
- とうほく 東北自動車道 [ ]
- とうめいこうそくどうろ 東名高速道路 [ ]



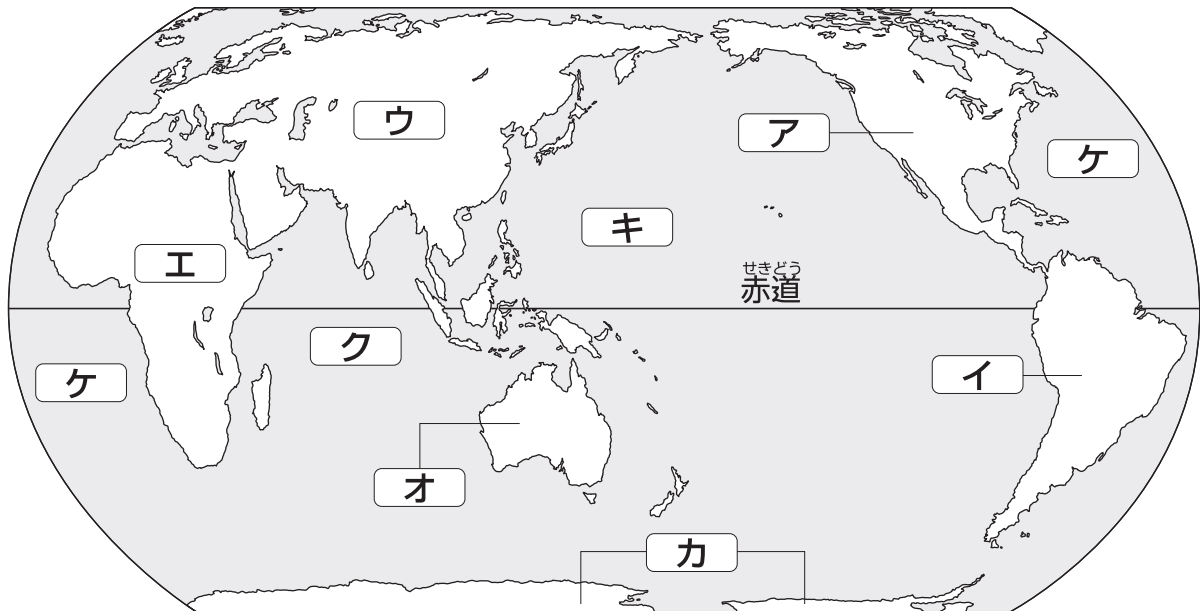

宇宙から地球をながめると、海洋は青く、陸地は茶色と緑色に見えます。陸地は、六つの大陸と多くの島々に分けられ、海洋は三大洋と、日本海などの小さな海に分けられます。

中の大陸や海洋は、地図中のどこにあるでしょう。ア~ケから選び、  
[ ] に記号を書きましょう。

大 陸	アフリカ大陸	[ ]
	オーストラリア大陸	[ ]
	北アメリカ大陸	[ ]
	南アメリカ大陸	[ ]
	ユーラシア大陸	[ ]
	南極大陸	[ ]





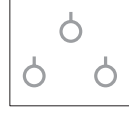



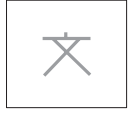



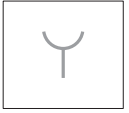













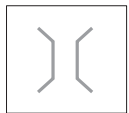

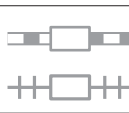

三 大 洋	インド洋	[ ]
	大西洋	[ ]
	太平洋	[ ]

日本は、ユーラシア大陸の東にあるのだ！



ちず 地図には、その場所<sup>ばしょ</sup>にどんなものがあるのか、その場所がどのように<sup>りよう</sup>利用されているのかということ<sup>きごう</sup>を記号<sup>あらわ</sup>で表した<sup>ちず</sup>地図記号<sup>きごう</sup>が使われています。

した 下の地図記号をなぞり、その地図記号が表しているものを下の<sup>した</sup>□の中の<sup>なか</sup>ア～ソから<sup>えら</sup>選び、<sup>きごう</sup>記号を[ ]に<sup>か</sup>書きましょう。

 [ ]	 いねをかり とったあとの 切りかぶ の形	 [ ]	 たね から芽 を出して きた 葉の形	 [ ]	 くだもの の形
 [ ]	 かんたんて わかりやす い記号にし たもの	 [ ]	 もじ「文」 という字の 形	 [ ]	 昔「通信省」 といい、そ の「テ」を○ で囲んだ形
 [ ]	 昔使ってい た消防道具 の形	 [ ]	 おまわりさ んの持っ ている「けい ぼう」の形	 [ ]	 赤十字の しるしの形
 [ ]	 歯車 <sup>はぐるま</sup> の形	 [ ]	 神社の入口 にあると りい の形	 [ ]	 仏教でめ たいこと を表す形
 [ ]	 本の形	 [ ]	 橋を上から 見た形	 [ ]	 線路の形

- |      |          |        |      |     |
|------|----------|--------|------|-----|
| ア 学校 | イ けいさつしよ | ウ 消防しよ | エ 工場 | オ 田 |
| カ 神社 | キ くだもの畑  | ク 市役所  | ケ 鉄道 | コ 畑 |
| サ 病院 | シ ゆうびん局  | ス 図書館  | セ 寺  | ソ 橋 |





# ドリルの王様



だいとくしゅう  
大特集

とく てん ひょう  
得点表

3～5ねん

## 日本地図ドリル

ドリルにチャレンジして、点数を記録しよう。  
1回目で全問正解できなくても2回、3回と、  
くり返しちょうせんしよう！  
満点が取れたら、 に色をぬってね。

めざせ  
まんてん  
満点！！

なまえ  
名前

	1回目	2回目	3回目	
1 日本 <small>にほん</small> のすがたを知ろう	点	点	点	
2 日本 <small>にほん</small> を8つに分けよう	点	点	点	
3 どのものかな？ ～昔 <small>むかし</small> の国名 <small>こくめい</small> がついたもの～	点	点	点	
4 日本 <small>にほん</small> の気候 <small>きこう</small> を知ろう	点	点	点	
5 工業 <small>こうぎょう</small> の発達 <small>はつたつ</small> している ところをさがそう	点	点	点	
6 ドライブ <small>たの</small> を楽しもう ～高速道路 <small>こうそくどうろ</small> ～	点	点	点	
7 地球 <small>ちきゅう</small> のすがたを知ろう	点	点	点	
8 地図 <small>ちず</small> のきまり ～地図記号 <small>ちずきごう</small> を知ろう～	点	点	点	

ドリルの王様 大特集

新興出版社 モニブラ

or ドリルの王様

検索

新興出版社の  
色々な商品を  
無料で試せる  
お得なモニターに  
ついてはこちら



ドリルの王様  
公式サイトは  
こちら



苦手を克服！  
集中特訓ドリルに  
挑戦しよう！

新興出版社 啓林館  
なびむすドリル コラボ企画

ちびむす  
ドリル × 新興出版社

